

**Министерство науки и высшего образования РФ
Федеральное государственное бюджетное образовательное учреждение
высшего образования
«Национальный исследовательский университет «МЭИ»**

Направление подготовки/специальность: 13.03.02 Электроэнергетика и электротехника

Наименование образовательной программы: Энергоустановки на основе возобновляемых источников энергии

Уровень образования: высшее образование - бакалавриат

Форма обучения: Очная


**Оценочные материалы
по дисциплине
Линейная алгебра и аналитическая геометрия**

**Москва
2021**

ОЦЕНОЧНЫЕ МАТЕРИАЛЫ РАЗРАБОТАЛ:

Преподаватель

(должность)

	Подписано электронной подписью ФГБОУ ВО «НИУ «МЭИ»	
	Сведения о владельце ЦЭП МЭИ	
	Владелец	Кириченко П.В.
	Идентификатор	R106dc7f8-KirichenkoPV-a94c9a91

(подпись)


П.В.
Кириченко

(расшифровка
подписи)

СОГЛАСОВАНО:

Руководитель
образовательной
программы

(должность, ученая степень,
ученое звание)

	Подписано электронной подписью ФГБОУ ВО «НИУ «МЭИ»	
	Сведения о владельце ЦЭП МЭИ	
	Владелец	Васьков А.Г.
	Идентификатор	R1c6ebe0f-VaskovAG-eb5ccd67


(подпись)

А.Г. Васьков

(расшифровка
подписи)

Заведующий
выпускающей
кафедры

(должность, ученая степень,
ученое звание)

	Подписано электронной подписью ФГБОУ ВО «НИУ «МЭИ»	
	Сведения о владельце ЦЭП МЭИ	
	Владелец	Шестопалова Т.А.
	Идентификатор	Rca486bb1-ShestopalovaTA-2b9205

(подпись)

Т.А.
Шестопалова

(расшифровка
подписи)

ОБЩАЯ ЧАСТЬ

Оценочные материалы по дисциплине предназначены для оценки: достижения обучающимися запланированных результатов обучения по дисциплине, этапа формирования запланированных компетенций и уровня освоения дисциплины.

Оценочные материалы по дисциплине включают оценочные средства для проведения мероприятий текущего контроля успеваемости и промежуточной аттестации.

Формируемые у обучающегося компетенции:

1. ОПК-3 Способен применять соответствующий физико-математический аппарат, методы анализа и моделирования, теоретического и экспериментального исследования при решении профессиональных задач

ИД-1 Применяет математический аппарат аналитической геометрии, линейной алгебры, дифференциального и интегрального исчисления функции одной переменной

и включает:

для текущего контроля успеваемости:

Форма реализации: Защита задания

1. Аналитическая геометрия (Расчетно-графическая работа)

Форма реализации: Письменная работа

1. Линейные операторы (Контрольная работа)

2. Матрицы и определители (Контрольная работа)

3. Системы линейных уравнений (Контрольная работа)

БРС дисциплины

1 семестр

Раздел дисциплины	Веса контрольных мероприятий, %				
	Индекс КМ:	КМ-1	КМ-2	КМ-3	КМ-4
	Срок КМ:	3	6	12	15
Линейная алгебра					
Матрицы и определители		+			
Системы линейных уравнений			+		
Линейные операторы				+	
Аналитическая геометрия					
Аналитическая геометрия					+
Вес КМ:		25	25	25	25

\$Общая часть/Для промежуточной аттестации\$

СОДЕРЖАНИЕ ОЦЕНОЧНЫХ СРЕДСТВ ТЕКУЩЕГО КОНТРОЛЯ

I. Оценочные средства для оценки запланированных результатов обучения по дисциплине, соотнесенных с индикаторами достижения компетенций

Индекс компетенции	Индикатор	Запланированные результаты обучения по дисциплине	Контрольная точка
ОПК-3	ИД-1 _{опк-3} Применяет математический аппарат аналитической геометрии, линейной алгебры, дифференциального и интегрального исчисления функции одной переменной	<p>Знать:</p> <p>основные термины, понятия и определения линейной алгебры и аналитической геометрии</p> <p>Уметь:</p> <p>производить основные операции над матрицами и вычислять определители определять матрицу, собственные значения и собственные векторы линейного оператора использовать векторный и координатный методы решения геометрических задач исследовать и решать системы линейных алгебраических уравнений</p>	<p>Матрицы и определители (Контрольная работа)</p> <p>Системы линейных уравнений (Контрольная работа)</p> <p>Линейные операторы (Контрольная работа)</p> <p>Аналитическая геометрия (Расчетно-графическая работа)</p>

II. Содержание оценочных средств. Шкала и критерии оценивания

КМ-1. Матрицы и определители

Формы реализации: Письменная работа

Тип контрольного мероприятия: Контрольная работа

Вес контрольного мероприятия в БРС: 25

Процедура проведения контрольного мероприятия: Контрольную работу «Матрицы и определители» студенты пишут на практическом занятии на 2 часа.

Краткое содержание задания:

Операции с матрицами. Вычисление определителей

Контрольные вопросы/задания:

Уметь: производить основные операции над матрицами и вычислять определители	1. Найти обратную матрицу (с проверкой). $A = \begin{pmatrix} 3 & 2 & -4 \\ -4 & -3 & 4 \\ 2 & 1 & -3 \end{pmatrix}; B = [1]$ 2. Решить матричное уравнение $\begin{pmatrix} 1 & 2 \\ 0 & 1 \end{pmatrix} \cdot X = \begin{pmatrix} 1 & 3 \\ 0 & 1 \end{pmatrix}$ 3. Чему равно произведение АВ, если $A = \begin{pmatrix} 1 & 2 & 3 \\ 0 & 1 & 2 \end{pmatrix}$, $B = \begin{pmatrix} 1 & 0 \\ 0 & 1 \\ 1 & 1 \end{pmatrix}$?
---	---

Описание шкалы оценивания:

Оценка: 5

Нижний порог выполнения задания в процентах: 95

Описание характеристики выполнения знания: контрольная работа считается выполненной на оценку «Отлично», если работа выполнена полностью; в логических рассуждениях и обоснованиях нет пробелов и ошибок; в решении нет математических ошибок (возможна одна неточность, описка, не являющаяся следствием незнания или непонимания учебного материала)

Оценка: 4

Нижний порог выполнения задания в процентах: 80

Описание характеристики выполнения знания: контрольная работа считается выполненной на оценку «Хорошо», если работа выполнена полностью, но обоснования шагов решения недостаточны; допущена одна ошибка или два-три недочета в выкладках

Оценка: 3

Нижний порог выполнения задания в процентах: 60

Описание характеристики выполнения знания: контрольная работа считается выполненной на оценку «Удовлетворительно», если допущены более одной ошибки или более двух-трех недочетов в выкладках, но учащийся владеет обязательными умениями по проверяемой теме

КМ-2. Системы линейных уравнений

Формы реализации: Письменная работа

Тип контрольного мероприятия: Контрольная работа

Вес контрольного мероприятия в БРС: 25

Процедура проведения контрольного мероприятия: Контрольную работу «Системы линейных уравнений» студенты пишут на практическом занятии на 2 часа.

Краткое содержание задания:

Решение систем линейных алгебраических уравнений.

Контрольные вопросы/задания:

<p>Уметь: исследовать и решать системы линейных алгебраических уравнений</p>	<p>1. Решить систему $AX=B$</p> $A = \begin{bmatrix} 2 & -6 & 3 & 0 \\ 1 & 4 & -1 & 2 \\ 3 & -2 & 2 & 2 \\ -2 & -8 & 2 & -4 \end{bmatrix}; B = \begin{bmatrix} -1 \\ 6 \\ 5 \\ -10 \end{bmatrix}$ <p>2. Решить методом Крамера систему $AX=B$</p> $A = \begin{bmatrix} 3 & 2 & -4 \\ -4 & -3 & 4 \\ 2 & 1 & -3 \end{bmatrix}; B = \begin{bmatrix} 1 \\ 1 \\ 1 \end{bmatrix}$
--	--

Описание шкалы оценивания:

Оценка: 5

Нижний порог выполнения задания в процентах: 95

Описание характеристики выполнения знания: контрольная работа считается выполненной на оценку «Отлично», если работа выполнена полностью; в логических рассуждениях и обоснованиях нет пробелов и ошибок; в решении нет математических ошибок (возможна одна неточность, описка, не являющаяся следствием незнания или непонимания учебного материала)

Оценка: 4

Нижний порог выполнения задания в процентах: 80

Описание характеристики выполнения знания: контрольная работа считается выполненной на оценку «Хорошо», если работа выполнена полностью, но обоснования шагов решения недостаточны; допущена одна ошибка или два-три недочета в выкладках

Оценка: 3

Нижний порог выполнения задания в процентах: 60

Описание характеристики выполнения знания: контрольная работа считается выполненной на оценку «Удовлетворительно», если допущены более одной ошибки или более двух- трех недочетов в выкладках, но учащийся владеет обязательными умениями по проверяемой теме

КМ-3. Линейные операторы

Формы реализации: Письменная работа

Тип контрольного мероприятия: Контрольная работа

Вес контрольного мероприятия в БРС: 25

Процедура проведения контрольного мероприятия: Контрольную работу «Линейные операторы» студенты пишут на практическом занятии на 2 часа.

Краткое содержание задания:

Контрольная точка направлена на оценку освоения компетенции по теме: Линейные операторы

Контрольные вопросы/задания:

<p>Уметь: определять матрицу, собственные значения и собственные векторы линейного</p>	<p>1. Уметь найти собственные векторы и собственные значения линейного оператора</p>
--	--

Описание шкалы оценивания:

Оценка: 5

Нижний порог выполнения задания в процентах: 95

Описание характеристики выполнения знания: контрольная работа считается выполненной на оценку «Отлично», если работа выполнена полностью; в логических рассуждениях и обоснованиях нет пробелов и ошибок; в решении нет математических ошибок (возможна одна неточность, описка, не являющаяся следствием незнания или непонимания учебного материала)

Оценка: 4

Нижний порог выполнения задания в процентах: 80

Описание характеристики выполнения знания: контрольная работа считается выполненной на оценку «Хорошо», если работа выполнена полностью, но обоснования шагов решения недостаточны; допущена одна ошибка или два-три недочета в выкладках

Оценка: 3

Нижний порог выполнения задания в процентах: 60

Описание характеристики выполнения знания: контрольная работа считается выполненной на оценку «Удовлетворительно», если допущены более одной ошибки или более двух- трех недочетов в выкладках, но учащийся владеет обязательными умениями по проверяемой теме

КМ-4. Аналитическая геометрия

Формы реализации: Защита задания

Тип контрольного мероприятия: Расчетно-графическая работа

Вес контрольного мероприятия в БРС: 25

Процедура проведения контрольного мероприятия: Защита РГР «Аналитическая геометрия» студенты пишут на практическом занятии на 2 часа.

Краткое содержание задания:

Контрольная точка направлена на оценку освоения компетенции по темам: векторы, взаимное расположение прямых и плоскостей в пространстве

Контрольные вопросы/задания:

Знать: основные термины, понятия и определения линейной алгебры и аналитической геометрии	1. Уметь находить различные виды уравнений плоскостей и прямых
Уметь: использовать векторный и координатный методы решения геометрических задач	1. Найти координаты точки М пересечения стороны ВС и медианы АМ треугольника АВС А(0,0,0). В(1,2,2). С(-1,1,2) 2. Лежат ли точки А(1;2;0), В(3;3;1), С(5;4;2) на одной прямой? 3. Найти точку пересечения прямой $x-21=y+32=z-13$ и плоскости $2x+3y-z+1=0$ 4. Вычислить площадь треугольника АВС А(1,2,0) В(3,0,-3) С(5,2,6)

Описание шкалы оценивания:

Оценка: 5

Нижний порог выполнения задания в процентах: 95

Описание характеристики выполнения знания: контрольная работа считается выполненной на оценку «Отлично», если работа выполнена полностью; в логических рассуждениях и обоснованиях нет пробелов и ошибок; в решении нет математических ошибок (возможна одна неточность, описка, не являющаяся следствием незнания или непонимания учебного материала)

Оценка: 4

Нижний порог выполнения задания в процентах: 80

Описание характеристики выполнения знания: контрольная работа считается выполненной на оценку «Хорошо», если работа выполнена полностью, но обоснования шагов решения недостаточны; допущена одна ошибка или два-три недочета в выкладках

Оценка: 3

Нижний порог выполнения задания в процентах: 60

Описание характеристики выполнения знания: контрольная работа считается выполненной на оценку «Удовлетворительно», если допущены более одной ошибки или более двух- трех недочетов в выкладках, но учащийся владеет обязательными умениями по проверяемой теме

СОДЕРЖАНИЕ ОЦЕНОЧНЫХ СРЕДСТВ ПРОМЕЖУТОЧНОЙ АТТЕСТАЦИИ

1 семестр

Форма промежуточной аттестации: Зачет с оценкой

Пример билета

1. Дать определение: собственные значения и собственные векторы линейного оператора
2. Вычислить объем тетраэдра $OABC$, $O(0,0,0)$, $A(1,0,0)$, $B(0,1,0)$, $C(0,0,1)$.
3. Исследовать систему линейных алгебраических уравнений (доказать совместность, записать фундаментальную систему решений, общее решение системы):
$$\begin{cases} x_1 + x_2 - x_3 = 1 \\ 2x_1 - x_2 + x_3 = 2 \end{cases}$$
4. Исследовать на линейную зависимость систему векторов: $a=(1,1,1,1)$, $b=(1,2,1,1)$, $c=(1,1,2,1)$, $d=(-1,-1,-2,-1)$

Процедура проведения

За проведение зачета отвечает лектор. Зачет проводится письменно. Студенты пишут ответы на билет 1 час. По истечении срока написания, студенты сдают работы. За ответ на каждый вопрос ставятся баллы: 1 - 25 б., 2 - 25б., 3 - 25б., 4 - 25б. После суммирования баллов, ставится экзаменационная составляющая.

1. Перечень компетенций/индикаторов и контрольных вопросов проверки результатов освоения дисциплины

1. Компетенция/Индикатор: ИД-1_{ОПК-3} Применяет математический аппарат аналитической геометрии, линейной алгебры, дифференциального и интегрального исчисления функции одной переменной

Вопросы, задания

1. Скалярное произведение векторов и его свойства
2. Векторное произведение векторов и его свойства
3. Смешанное произведение векторов и его свойства
4. Ранг матрицы. Линейно-независимая система векторов
5. Правило Крамера
6. Теорема о нетривиальной совместности линейной однородной системы
7. Теорема Кронекера–Капелли
8. ФСР. Структура общего решения линейной неоднородной системы уравнений
9. Общее уравнение плоскости, уравнение плоскости, проходящей через три заданные точки
10. Нормальное уравнение плоскости, уравнение плоскости в отрезках
11. Общие уравнения прямой, канонические уравнения прямой, параметрические уравнения прямой
12. Собственные значения и собственные векторы линейного оператора
13. Канонические уравнения поверхностей второго порядка
14. Формулы вычисления определителей 2-го, 3-го, n-го порядков
15. Матрица, умножение матриц
16. Канонические уравнения кривых второго порядка

Материалы для проверки остаточных знаний

1. Написать уравнение плоскости, содержащей оси Ox , Oz :
Ответы:

1) $y = 0$ 2) $y + x = 3$ 3) $z = 4$ 4) $x = 0$

Верный ответ: 1

2. Написать уравнение прямой, проходящей через точку $A(1;2;3)$ параллельно вектору $\vec{a} = (-2;3;0)$.

Ответы:

1) $x/-2 = (y - 1)/3 = z$ 2) $(x - 1)/-2 = (y - 2)/3 = (z - 3)/0$ 3) $x/-2 = (y - 1)/3 = z/0$ 4) $x = y = z$

Верный ответ: 2

3. У квадратной матрицы две строки состоят из единиц. Чему равен определитель матрицы?

Ответы:

1) 1 2) 0 3) Требуется дополнительная информация

Верный ответ: 2

4. Лежат ли точки $A(1,2,3)$, $B(0,1,0)$, $C(2,1,1)$, $D(-1,1,0)$ в одной плоскости?

Ответы:

1) Нет 2) Да

Верный ответ: 1

5. Существуют ли в пространстве 4 вектора, попарно перпендикулярных между собой?

Ответы:

1) Нет 2) Да

Верный ответ: 1

6. Можно ли умножить матрицу размерности 2×3 на матрицу размерности 3×5

Ответы:

1) Нет 2) Да 3) Не всегда

Верный ответ: 2

7. Чему равен элемент a_{21} для матрицы $A = \begin{pmatrix} 1 & 2 \\ 3 & 4 \end{pmatrix}$

Ответы:

1) 3 2) 2 3) 1 4) 5

Верный ответ: 1

8. Найти определитель матрицы $A = \begin{pmatrix} 3 & 5 & 2 \\ 1 & 7 & 9 \\ 4 & 12 & 11 \end{pmatrix}$

Ответы:

1) 0 2) 8 3) 127 4) 232

Верный ответ: 1

II. Описание шкалы оценивания

Оценка: 5

Нижний порог выполнения задания в процентах: 95

Описание характеристики выполнения знания: работа выполнена полностью; в логических рассуждениях и обоснованиях нет пробелов и ошибок; в решении нет математических ошибок (возможна одна неточность, описка, не являющаяся следствием незнания или непонимания учебного материала)

Оценка: 4

Нижний порог выполнения задания в процентах: 80

Описание характеристики выполнения знания: работа выполнена полностью, но обоснования шагов решения недостаточны; допущена одна ошибка или два-три недочета в выкладках

Оценка: 3

Нижний порог выполнения задания в процентах: 60

Описание характеристики выполнения знания: допущены более одной ошибки или более двух- трех недочетов в выкладках, но учащийся владеет обязательными умениями по проверяемой теме

III. Правила выставления итоговой оценки по курсу

итоговая оценка за освоение дисциплины определяется в соответствии с Положением о балльно-рейтинговой системе для студентов НИУ «МЭИ».