

**Министерство науки и высшего образования РФ
Федеральное государственное бюджетное образовательное учреждение
высшего образования
«Национальный исследовательский университет «МЭИ»**

Направление подготовки/специальность: 09.03.01 Информатика и вычислительная техника

Наименование образовательной программы: Технологии разработки программного обеспечения

Уровень образования: высшее образование - бакалавриат

Форма обучения: Заочная


**Оценочные материалы
по дисциплине
Теория вероятностей и математическая статистика**

**Москва
2021**

ОЦЕНОЧНЫЕ МАТЕРИАЛЫ РАЗРАБОТАЛ:

Преподаватель

(должность)

	Подписано электронной подписью ФГБОУ ВО «НИУ «МЭИ»	
	Сведения о владельце ЦЭП МЭИ	
	Владелец	Янченко А.Я.
	Идентификатор	Rf0c8420a-YanchenkoAY-4bf6dae3

(подпись)


А.Я. Янченко

(расшифровка
подписи)

СОГЛАСОВАНО:

Руководитель
образовательной
программы

(должность, ученая степень, ученое
звание)

	Подписано электронной подписью ФГБОУ ВО «НИУ «МЭИ»	
	Сведения о владельце ЦЭП МЭИ	
	Владелец	Вишняков С.В.
	Идентификатор	R35b26072-VishniakovSV-02810d9


(подпись)

С.В.
Вишняков

(расшифровка
подписи)

Заведующий
выпускающей кафедры

(должность, ученая степень, ученое
звание)

	Подписано электронной подписью ФГБОУ ВО «НИУ «МЭИ»	
	Сведения о владельце ЦЭП МЭИ	
	Владелец	Вишняков С.В.
	Идентификатор	R35b26072-VishniakovSV-02810d9

(подпись)

С.В.
Вишняков

(расшифровка
подписи)

ОБЩАЯ ЧАСТЬ

Оценочные материалы по дисциплине предназначены для оценки: достижения обучающимися запланированных результатов обучения по дисциплине, этапа формирования запланированных компетенций и уровня освоения дисциплины.

Оценочные материалы по дисциплине включают оценочные средства для проведения мероприятий текущего контроля успеваемости и промежуточной аттестации.

Формируемые у обучающегося компетенции:

1. ОПК-5 способностью решать стандартные задачи профессиональной деятельности на основе информационной и библиографической культуры с применением информационно-коммуникационных технологий и с учетом основных требований информационной безопасности

и включает:

для текущего контроля успеваемости:

Форма реализации: Компьютерное задание

1. Вычисление числовых характеристик случайных величин (Тестирование)
2. Различные типы вероятностных пространств (Тестирование)
3. Распределение (Тестирование)
4. Случайное событие (Тестирование)

Форма реализации: Письменная работа

1. Анализ статистических выборок (Контрольная работа)

БРС дисциплины

4 семестр

Раздел дисциплины	Веса контрольных мероприятий, %					
	Индекс КМ:	КМ-1	КМ-2	КМ-3	КМ-4	КМ-5
	Срок КМ:	3	6	9	12	15
Элементы комбинаторики. Случайные события						
Элементы комбинаторики. Случайные события	+	+				
Элементарная теория вероятностей						
Элементарная теория вероятностей	+	+				
Случайные величины						
Непрерывные и дискретные случайные величины				+		
Законы распределения						
Законы распределения					+	

Элементы математической статистики					
Статистические выборки; выборочные средние					+
Вес КМ:	20	20	20	20	20

\$Общая часть/Для промежуточной аттестации\$

СОДЕРЖАНИЕ ОЦЕНОЧНЫХ СРЕДСТВ ТЕКУЩЕГО КОНТРОЛЯ

I. Оценочные средства для оценки запланированных результатов обучения по дисциплине, соотнесенных с индикаторами достижения компетенций

Индекс компетенции	Индикатор	Запланированные результаты обучения по дисциплине	Контрольная точка
ОПК-5	ОПК-5(Компетенция)	Знать: элементы регрессионного анализа центральную предельную теорему стандартные распределения случайных величин Уметь: находить доверительные интервалы для математического ожидания и дисперсии решать комбинаторными методами простейшие вероятностные задачи	Случайное событие (Тестирование) Различные типы вероятностных пространств (Тестирование) Вычисление числовых характеристик случайных величин (Тестирование) Распределение (Тестирование) Анализ статистических выборок (Контрольная работа)

II. Содержание оценочных средств. Шкала и критерии оценивания

КМ-1. Случайное событие

Формы реализации: Компьютерное задание

Тип контрольного мероприятия: Тестирование

Вес контрольного мероприятия в БРС: 20

Процедура проведения контрольного мероприятия: Тестирование проводится с использованием СДО "Прометей". К тестированию допускается пользователь изучивший материалы, авторизованных уникальным логином и паролем. Время отведенное на выполнение задания не более 60 минут. Количество попыток не более 3х

Краткое содержание задания:

Контрольная точка направлена на усвоение приёмов и методов решения задач по случайные события

Контрольные вопросы/задания:

Знать: распределения величин	стандартные случайных	1. Число размещений из n элементов по m в каждом вычисляется по формуле: 1. 1) $A_n^m = \frac{n!}{(n-m)!}$ 2. 2) $C_n^m = \frac{n!}{m!(n-m)!}$ 3. 3) $P=n!$ 4. 4) $P=(n-m)!$ ответ: 1 2. Число сочетаний из n элементов по m вычисляется по формуле: 1. 1) $C_n^m = \frac{n!}{m!(n-m)!}$ 2. 2) $C_n^m = \frac{n!}{(n-m)!}$ 3. 3) $C_n^m = \frac{(n+m)!}{m!(n-m)!}$ 4. 4) $C_n^m = \frac{(n-m)!}{m!n!}$ ответ: 1 3. Нормальным (гауссовым) распределением вероятностей непрерывной случайной величины X называется распределение с плотностью вероятностей: 1. 1) $f(x) = \frac{1}{\sigma\sqrt{2\pi}} e^{-(x-a)^2/2\sigma^2}$ 2. 2) $f(x) = \frac{1}{\sqrt{2\pi}\sigma} e^{-(x-a)^2/\sigma^2}$ 3. 3) $f(x) = \frac{1}{\sqrt{2\pi}\sigma} e^{-x^2/2\sigma^2}$ 4. 4) $f(x) = \frac{1}{\sigma\sqrt{2\pi}} e^{-(x-a)^2}$ ответ: 1
------------------------------------	--------------------------	---

Описание шкалы оценивания:

Оценка: 5

Нижний порог выполнения задания в процентах: 80

Описание характеристики выполнения знания: Оценка "отлично" выставляется если задание выполнено в полном объеме или выполнено преимущественно верно

Оценка: 4

Нижний порог выполнения задания в процентах: 70

Описание характеристики выполнения знания: Оценка "хорошо" выставляется если большинство вопросов раскрыто. выбрано верное направление для решения задач

Оценка: 3

Нижний порог выполнения задания в процентах: 60

Описание характеристики выполнения знания: Оценка "удовлетворительно" выставляется если задание преимущественно выполнено

КМ-2. Различные типы вероятностных пространств

Формы реализации: Компьютерное задание

Тип контрольного мероприятия: Тестирование

Вес контрольного мероприятия в БРС: 20

Процедура проведения контрольного мероприятия: Тестирование проводится с использованием СДО "Прометей". К тестированию допускается пользователь изучивший материалы, авторизованных уникальным логином и паролем. Время отведенное на выполнение задания не более 60 минут. Количество попыток не более 3х

Краткое содержание задания:

Контрольная точка направлена на усвоение приёмов и методов решения задач по элементарной теории вероятностей

Контрольные вопросы/задания:

<p>Знать: стандартные распределения случайных величин</p>	<p>1. Из колоды в 52 карты извлекаются наудачу 4 карты. Вероятность того, что среди них окажутся ровно две пики равна</p> <ol style="list-style-type: none">1) 0.2132) 0.763) 0.1454) 0.5315) 0.39 <p>ответ: 1</p> <p>2. В первом ящике 20 белых и 1 чёрный шар, во втором 50 белых и 6 чёрных. Из первого ящика во второй переложили 11 шаров, затем из второго извлекли 1 шар. Найти вероятность того, что выбранный шар - белый.</p> <ol style="list-style-type: none">1) 0.92) 0.73) 0.234) 0.345) 0.6 <p>ответ: 1</p> <p>3. Монету бросают до первого выпадения герба, либо до тех пор, пока цифра не выпадет 4 раза. Найдите среднее число бросков монеты.</p> <ol style="list-style-type: none">1) 15/8
---	--

	<p>2) $7/8$ 3) $23/5$ 4) $1/4$ 5) 4 ответ: 1</p> <p>4. Найти коэффициент корреляции, если по данным измерений двух случайных величин составлена таблица:</p> <table border="1" style="margin-left: auto; margin-right: auto;"> <tr> <td>X</td> <td>6</td> <td>10</td> <td>15</td> <td>20</td> <td>22</td> <td>25</td> <td>30</td> <td>32</td> <td>35</td> <td>38</td> </tr> <tr> <td>Y</td> <td>0</td> <td>18</td> <td>5</td> <td>27</td> <td>14</td> <td>10</td> <td>18</td> <td>35</td> <td>28</td> <td>30</td> </tr> </table> <p>1) 0,743 2) 0,441 3) 0,249 4) 0,691 5) 0,925 ответ: 1</p>	X	6	10	15	20	22	25	30	32	35	38	Y	0	18	5	27	14	10	18	35	28	30
X	6	10	15	20	22	25	30	32	35	38													
Y	0	18	5	27	14	10	18	35	28	30													

Описание шкалы оценивания:

Оценка: 5

Нижний порог выполнения задания в процентах: 80

Описание характеристики выполнения знания: Оценка "отлично" выставляется если задание выполнено в полном объеме или выполнено преимущественно верно

Оценка: 4

Нижний порог выполнения задания в процентах: 70

Описание характеристики выполнения знания: Оценка "хорошо" выставляется если большинство вопросов раскрыто. выбрано верное направление для решения задач

Оценка: 3

Нижний порог выполнения задания в процентах: 60

Описание характеристики выполнения знания: Оценка "удовлетворительно" выставляется если задание преимущественно выполнено

КМ-3. Вычисление числовых характеристик случайных величин

Формы реализации: Компьютерное задание

Тип контрольного мероприятия: Тестирование

Вес контрольного мероприятия в БРС: 20

Процедура проведения контрольного мероприятия: Тестирование проводится с использованием СДО "Прометей". К тестированию допускается пользователь изучивший материалы, авторизированных уникальным логином и паролем. Время отведенное на выполнение задания не более 90 минут. Количество попыток не более 3х

Краткое содержание задания:

Контрольная точка направлена на оценку освоения законов распределения стандартных случайных величин

Контрольные вопросы/задания:

Знать: центральную предельную теорему	1.Шесть человек вошли в лифт на 1-м этаже 7-миэтажного дома. Считая, что любой пассажир может с равной вероятностью выйти на 2-м, 3-м, 4-м,
---------------------------------------	---

	<p>5-м, 6-м, 7-м этажах. Вероятность того, что на каждом этаже выйдет по одному пассажиру равна</p> <p>1) $5/324$ 2) $2/67$ 3) 0.347 4) $56/89$ 5) 0.294 ответ: 1</p> <p>2. В течение часа на коммутатор поступает в среднем 120 телефонных вызовов. Какова вероятность того, что в течение заданной минуты поступит 4 вызова?</p> <p>1) 0.09 2) 0.32 3) 0.12 4) 0.25 5) 0.41 ответ: 1</p> <p>3. Игровой кубик подбрасывают 15 раз. Оцените вероятность того, что суммарное число выпавших очков превысит 50.</p> <p>1) 0.96 2) 0.12 3) 0.63 4) 0.26 5) 0.72 ответ: 1</p> <p>4. Стрелок 20 раз попал в цель при 100 выстрелах. Построить доверительный интервал для вероятности попадания в цель при одном выстреле для уравнения надёжности $\gamma = 0.9$</p> <p>1. 1) $(0,134; 0,266)$ 2) $(0,129; 0,146)$ 3) $(0,267; 0,369)$ 4) $(0,14; 0,36)$ 5) $(0,926; 0,987)$ ответ: 1</p>
--	---

Описание шкалы оценивания:

Оценка: 5

Нижний порог выполнения задания в процентах: 80

Описание характеристики выполнения знания: Оценка "отлично" выставляется если задание выполнено в полном объеме или выполнено преимущественно верно

Оценка: 4

Нижний порог выполнения задания в процентах: 70

Описание характеристики выполнения знания: Оценка "хорошо" выставляется если большинство вопросов раскрыто. выбрано верное направление для решения задач

Оценка: 3

Нижний порог выполнения задания в процентах: 60

Описание характеристики выполнения знания: Оценка "удовлетворительно" выставляется если задание преимущественно выполнено

КМ-4. Распределение

Формы реализации: Компьютерное задание

Тип контрольного мероприятия: Тестирование

Вес контрольного мероприятия в БРС: 20

Процедура проведения контрольного мероприятия: Тестирование проводится с использованием СДО "Прометей". К тестированию допускается пользователь изучивший материалы, авторизированных уникальным логином и паролем. Время отведенное на выполнение задания не более 90 минут. Количество попыток не более 3х

Краткое содержание задания:

Контрольная точка направлена на оценку освоения законов распределения стандартных случайных величин

Контрольные вопросы/задания:

Знать: элементы регрессионного анализа	<p>1. Пусть $X = (x_1, x_2, \dots, x_n)$ – дискретная случайная величина, p_i – вероятности появления x_i. Тогда математическое ожидание $M(X)$ случайной величины X рассчитывается по формуле:</p> <ol style="list-style-type: none">1) $M(X) = \sum_{i=1}^n x_i p_i$2) $M(X) = \sum_{i=1}^n x_i^2 p_i$3) $M(X) = \sum_{i=1}^n x_i p_i^2$4) $M(X) = \sum_{i=1}^n x_i^2 p_i^2$ <p>ответ: 1</p> <p>2. Если в схеме Бернулли p – малая величина и $\lambda = np$, то вероятность $P_{n; m}$ того, что при n испытаниях событие A произойдет m раз можно найти по приближенной формуле:</p> <ol style="list-style-type: none">1) $P_{n; m} = \frac{\lambda^m}{m!} e^{-\lambda}$2) $P_{n; m} = \frac{\lambda^m}{m} e^{-\lambda}$3) $P_{n; m} = \frac{\lambda^m}{m!} e^{\lambda}$4) $P_{n; m} = \frac{m^{\lambda}}{m!} e^{-\lambda}$ <p>ответ: 1</p> <p>3. Ковариация между выборками $x = (x_1, x_2, \dots, x_n)$ и $y = (y_1, y_2, \dots, y_n)$, вычисляется по формуле:</p> <ol style="list-style-type: none">1) $cov(x, y) = \frac{1}{n} \sum_{i=1}^n (x_i - \bar{x})(y_i - \bar{y})$2) $cov(x, y) = \sum_{i=1}^n (x_i - \bar{x})(y_i - \bar{y})$3) $cov(x, y) = \frac{n-1}{n} \sum_{i=1}^n (x_i - \bar{x})(y_i - \bar{y})$4) $cov(x, y) = \frac{n}{n-1} \sum_{i=1}^n (x_i - \bar{x})(y_i - \bar{y})$ <p>ответ: 1</p>
--	--

Описание шкалы оценивания:

Оценка: 5

Нижний порог выполнения задания в процентах: 80

Описание характеристики выполнения знания: Оценка "отлично" выставляется если задание выполнено в полном объеме или выполнено преимущественно верно

Оценка: 4

Нижний порог выполнения задания в процентах: 70

Описание характеристики выполнения знания: Оценка "хорошо" выставляется если большинство вопросов раскрыто. выбрано верное направление для решения задач

Оценка: 3

Нижний порог выполнения задания в процентах: 60

Описание характеристики выполнения знания: Оценка "удовлетворительно" выставляется если задание преимущественно выполнено

КМ-5. Анализ статистических выборок

Формы реализации: Письменная работа

Тип контрольного мероприятия: Контрольная работа

Вес контрольного мероприятия в БРС: 20

Процедура проведения контрольного мероприятия: Тестирование проводится с использованием СДО "Прометей". К тестированию допускается пользователь изучивший материалы, авторизованных уникальным логином и паролем. Время отведенное на выполнение задания не более 60 минут. Количество попыток не более 3х

Краткое содержание задания:

Контрольная точка направлена на оценку освоения вычисление выборочных числовых характеристик по заданным статистическим выборкам

Контрольные вопросы/задания:

<p>Уметь: находить доверительные интервалы для математического ожидания и дисперсии</p>	<p>1.Измерения сопротивления резистора дали следующей результаты (в омах) : $X_1=592$, $X_2=595$, $X_3=594$, $X_4=592$, $X_5=593$, $X_6=597$, $X_7=595$, $X_8=589$, $X_9=590$. Известно, что ошибки измерения имеют нормальный закон распределения. Систематическая ошибка отсутствует. Построить доверительный интервал для интенсивного сопротивления резистора с надёжностью 0.99 в предположении: $D(x)=4$</p> <p>2.Найдите среднее квадратическое отклонение случайной величины $Z=2X-Y+5$, если $M(X)=3$, $M(Y)=5$, $D(X)=2$, $D(Y)=1$, а случайные величины X и Y независимы</p> <p>3.Вероятность попадания в цель при одном выстреле равна 0.3 . Найдите сколько нужно сделать выстрелов, чтобы вероятность поражения цели была больше 0.9</p>
<p>Уметь: решать комбинаторными методами простейшие вероятностные задачи</p>	<p>1.Для стрелка, выполняющего упражнения в тире, вероятность попасть в цель при одном выстреле не зависит от результатов предшествующих выстрелов и равна 1/4. Найти вероятность того, что было ровно два попадания</p> <p>2.В колоде 36 карт. Каждому из четырех игроков раздали по 6 карт. Найдите вероятность того, что каждый игрок получил по одному тузу равна</p>

Описание шкалы оценивания:

Оценка: зачтено

Описание характеристики выполнения знания: Оценка "зачтено" выставляется если задание выполнено правильно или с незначительными недочетами

Оценка: не зачтено

Описание характеристики выполнения знания: Оценка "не зачтено" выставляется если задание не выполнено в отведенный срок или результат не соответствует заданию

СОДЕРЖАНИЕ ОЦЕНОЧНЫХ СРЕДСТВ ПРОМЕЖУТОЧНОЙ АТТЕСТАЦИИ

4 семестр

Форма промежуточной аттестации: Экзамен

Пример билета

Вид билета связан с интерфейсом сервиса "Прометей"



Процедура проведения

В тесте 20 вопросов встречаются вопросы следующих типов: 1. с одним вариантом ответа (в вопросах «один из многих», система сравнивает ответ слушателя с правильным ответом и автоматически выставляет за него назначенный балл) 2. с выбором нескольких вариантов ответов (в вопросах «многие из многих» система оценивает каждый ответ отдельно; есть возможность разрешить слушателю получить за вопрос 0,75 балла, если он выберет 3 правильных ответа из 4) 3. на соответствие слушатель должен привести в соответствие левую и правую часть ответа (в вопросах «соответствие» система оценивает каждый ответ отдельно; можно разрешить слушателю получить за вопрос 0,75 балла, если он выберет 3 правильных ответа из 4) 4. развернутый ответ, вводится в ручную в специально отведенное поле (ручная оценка преподавателем)

1. Перечень компетенций/индикаторов и контрольных вопросов проверки результатов освоения дисциплины

1. Компетенция/Индикатор: ОПК-5(Компетенция)

Вопросы, задания

1. Теорема Харди--Рамануджана о количестве различных простых делителей числа
2. Закон больших чисел и усиленный закон больших чисел. Метод Монте--Карло
3. Математическое ожидание для комплекснозначных случайных величин
4. Свойства условных математических ожиданий
5. Математическое ожидание суммы случайного количества случайных величин. Мартингалы
6. Случайные процессы. Траектории
7. Теорема Маркова
8. Случайные блуждания по целым точкам прямой и на целочисленной решетке
9. Теорема Пойя о возвращении
10. Ветвящиеся процессы. Вероятность вырождения и скорость вырождения в критическом случае
11. Вероятностная модель эксперимента со случайными исходами. Операции над событиями и операции над множествами
12. Неравенство Чебышёва. Математическое ожидание и дисперсия для равномерного и нормального распределений

Материалы для проверки остаточных знаний

1. Значение $\frac{6!}{A_{10}^7} (C_7^5 + C_7^3)$ равно

Ответы:

1) 1/15 2) 1 3) 3/7 4) 2/15

Верный ответ: 1

2. Перестановками из n элементов называются такие комбинации

Ответы:

1) из которых каждое содержит все n элементов, и которые отличаются друг от друга только порядком расположения элементов 2) из которых каждое содержит все n элементов, и которые отличаются друг от друга только составом элементов 3) из которых каждое содержит все n элементов, и которые отличаются друг от друга составом элементов и порядком их следования 4) из которых каждое содержит не менее n элементов, и которые отличаются друг от друга составом элементов и порядком их следования

Верный ответ: 1

3. Плотность равномерного распределения дана формулой: $f(x) = 1/(b - a)$, если $a \leq x \leq b$, $f(x) = 0$, если $x < 0$ и $x > b$. Тогда математическое ожидание случайной величины с таким распределением равно

Ответы:

1) $(a + b)/2$ 2) $(a - b)/2$ 3) $(a + b)/4$ 4) $(a - b)/4$

Верный ответ: 1

4. Распределение дискретной случайной величины X имеет вид: Математическое ожидание случайной величины $M(x)$ равно

x_i	200	1600
p_i	0,3	0,7

Ответы:

1) 1180 2) 1800 3) 1400 4) 1600

Верный ответ: 1

5. Случайная величина, распределена по показательному закону $f(x) = \lambda e^{-\lambda x}$. Произведена выборка, среднее значение которой равно 10. Тогда параметр λ оценивается числом

Ответы:

1) 0,1 2) 10 3) 1 4) $\sqrt{10}$

Верный ответ: 1

6. Коэффициент корреляции двух случайных величин X и Y принимает значения

Ответы:

1) на отрезке $[-1; 1]$ 2) на интервале $(-1; 1)$ 3) на интервале $(-\infty; 1)$ 4) на полуинтервале $[1; \infty)$

Верный ответ: 1

7. При каком значении линейного коэффициента корреляции между признаками связь можно считать самой сильной

Ответы:

1) $-0,981$ 2) $0,645$ 3) $0,111$ 4) $0,434$

Верный ответ: 1

8. Выборка задана в виде распределения частот: Тогда медиана этого вариационного ряда равна

x_i	4	7	8	12	17
n_i	2	4	5	6	3

Ответы:

1) 8 2) 7 3) 12 4) 7,5

Верный ответ: 1

9.Выборка задана в виде распределения частот: Тогда среднее значение выборки равно

x_i	1	2	3	5
n_i	15	20	10	5

Ответы:

1) 2,2 2) 2 3) 2,5 4) 2,7

Верный ответ: 1

10.Среднее квадратическое отклонение – это

Ответы:

1) квадратный корень из дисперсии 2) квадрат дисперсии 3) половина дисперсии 4) дисперсия минус квадрат среднего значения

Верный ответ: 1

11.Средний стаж работы рабочих АО составил 5 лет. Дисперсия стажа работы 4 года. Чему равен коэффициент вариации

Ответы:

1) 40% 2) 80% 3) 50% 4) 125%

Верный ответ: 1

12.Вариационный ряд – это

Ответы:

1) ранжированный в порядке возрастания или убывания ряд вариантов 2) ранжированный в порядке возрастания ряд вариантов 3) ранжированный в порядке убывания ряд вариантов 4) ряд признаков, полученных в результате измерения какого-либо экономического процесса

Верный ответ: 1

13.Сколько экзаменационных комиссий, состоящих из 7 человек, можно образовать из 14 преподавателей

Ответы:

1) 3432 2) 4432 3) 14 4) 98

Верный ответ: 1

14.Значение $\frac{1}{A_{20}^4} (A_{20}^6 + A_{20}^5)$ равно

Ответы:

1) 256 2) 225 3) 196 4) 289

Верный ответ: 1

II. Описание шкалы оценивания

Оценка: 5

Нижний порог выполнения задания в процентах: 80

Описание характеристики выполнения знания: Работа выполнена в рамках "продвинутого" уровня. Ответы даны верно, четко сформулированные особенности практических решений

Оценка: 4

Нижний порог выполнения задания в процентах: 70

Описание характеристики выполнения знания: Работа выполнена в рамках "базового" уровня. Большинство ответов даны верно. В части материала есть незначительные недостатки

Оценка: 3

Нижний порог выполнения задания в процентах: 60

Описание характеристики выполнения знания: Работа выполнена в рамках "порогового" уровня. Основная часть задания выполнена верно. на вопросы углубленного уровня

III. Правила выставления итоговой оценки по курсу

Оценка определяется в соответствии с Положением о балльно-рейтинговой системе для студентов НИУ «МЭИ» на основании семестровой и аттестационной составляющих.