

**Министерство науки и высшего образования РФ
Федеральное государственное бюджетное образовательное учреждение
высшего образования
«Национальный исследовательский университет «МЭИ»**

Направление подготовки/специальность: 27.03.02 Управление качеством

Наименование образовательной программы: Управление качеством продукции, процессов и услуг

Уровень образования: высшее образование - бакалавриат

Форма обучения: Заочная


**Оценочные материалы
по дисциплине
Математическое моделирование в экономике**

**Москва
2022**

ОЦЕНОЧНЫЕ МАТЕРИАЛЫ РАЗРАБОТАЛ:

Преподаватель

(должность)

	Подписано электронной подписью ФГБОУ ВО «НИУ «МЭИ»	
	Сведения о владельце ЦЭП МЭИ	
	Владелец	Лисин Е.М.
	Идентификатор	R634188c9-LisinYM-e76d6525

(подпись)


Е.М. Лисин

(расшифровка
подписи)

СОГЛАСОВАНО:

Руководитель
образовательной
программы

(должность, ученая степень, ученое
звание)

	Подписано электронной подписью ФГБОУ ВО «НИУ «МЭИ»	
	Сведения о владельце ЦЭП МЭИ	
	Владелец	Знаменская М.А.
	Идентификатор	R0edb956b-ZnamenskayaMA-72cea9


(подпись)

М.А.
Знаменская

(расшифровка
подписи)

Заведующий
выпускающей кафедры

(должность, ученая степень, ученое
звание)

	Подписано электронной подписью ФГБОУ ВО «НИУ «МЭИ»	
	Сведения о владельце ЦЭП МЭИ	
	Владелец	Кетоева Н.Л.
	Идентификатор	R56dba1ba-KetoyevaNL-5403d8c5

(подпись)

Н.Л. Кетоева

(расшифровка
подписи)

ОБЩАЯ ЧАСТЬ

Оценочные материалы по дисциплине предназначены для оценки: достижения обучающимися запланированных результатов обучения по дисциплине, этапа формирования запланированных компетенций и уровня освоения дисциплины.

Оценочные материалы по дисциплине включают оценочные средства для проведения мероприятий текущего контроля успеваемости и промежуточной аттестации.

Формируемые у обучающегося компетенции:

1. ПК-2 способен разрабатывать методики и инструкции по текущему контролю качества работ в процессе изготовления продукции, в испытаниях готовых изделий и оформлении документов, удостоверяющих их качество

ИД-1 Анализ данных по испытаниям готовых изделий

и включает:

для текущего контроля успеваемости:

Форма реализации: Компьютерное задание

1. Математическое и имитационное моделирование в экономике (Тестирование)

Форма реализации: Письменная работа

1. Графическое решение задачи линейного программирования (Контрольная работа)
2. Задача о назначениях (Контрольная работа)
3. Транспортная задача (Контрольная работа)

БРС дисциплины

8 семестр

Раздел дисциплины	Веса контрольных мероприятий, %				
	Индекс КМ:	КМ-1	КМ-2	КМ-3	КМ-4
	Срок КМ:	4	8	12	14
Математическое и имитационное моделирование в экономике					
Моделирование		+			
Математическая модель		+	+	+	+
Исследование операций		+			
Задачи линейного программирования					
Модели линейного программирования			+		
Методы решения задач линейного программирования			+		
Транспортные модели					
Модель транспортной задачи				+	

Методы решения транспортной задачи			+	
Модель задачи о назначениях				
Задача о назначениях				+
Методы решения задачи о назначениях				+
Вес КМ:	15	25	35	25

\$Общая часть/Для промежуточной аттестации\$

СОДЕРЖАНИЕ ОЦЕНОЧНЫХ СРЕДСТВ ТЕКУЩЕГО КОНТРОЛЯ

I. Оценочные средства для оценки запланированных результатов обучения по дисциплине, соотнесенных с индикаторами достижения компетенций

Индекс компетенции	Индикатор	Запланированные результаты обучения по дисциплине	Контрольная точка
ПК-2	ИД-1ПК-2 Анализ данных по испытаниям готовых изделий	<p>Знать:</p> <p>основы моделирования, принципы построения математических моделей, условия применения математических методов для формализации экономических процессов</p> <p>Уметь:</p> <p>применять методы линейного программирования для нахождения оптимального решения типовых экономических задач и осуществлять анализ их чувствительности к факторам внешнего и внутреннего окружения</p> <p>разрабатывать транспортные модели для решения традиционных транспортных задач, а также нетрадиционных, таких как задачи</p>	<p>Математическое и имитационное моделирование в экономике (Тестирование)</p> <p>Графическое решение задачи линейного программирования (Контрольная работа)</p> <p>Транспортная задача (Контрольная работа)</p> <p>Задача о назначениях (Контрольная работа)</p>

		управления запасами и распределения оборудования на предприятии разрабатывать экономико- математические модели для решения задач распределительного типа в условиях неделимости ресурсов между различными видами работ на предприятии	
--	--	--	--

II. Содержание оценочных средств. Шкала и критерии оценивания

КМ-1. Математическое и имитационное моделирование в экономике

Формы реализации: Компьютерное задание

Тип контрольного мероприятия: Тестирование

Вес контрольного мероприятия в БРС: 15

Процедура проведения контрольного мероприятия: Технология проверки связана с выполнением контрольного теста по изученной теме. Время, отведенное на выполнение задания, устанавливается не более 30 минут. Количество попыток не более 3х. Тестирование проводится с использованием СДО "Прометей". К тестированию допускается пользователь, изучивший материалы, авторизированный уникальным логином и паролем.

Краткое содержание задания:

Контрольная точка направлена на проверку знаний по "Классификация видов моделирования. Использование различных видов моделирования в экономических исследованиях"

Контрольные вопросы/задания:

<p>Знать: основы моделирования, принципы построения математических моделей, условия применения математических методов для формализации экономических процессов</p>	<p>1. Модель – это а) аналог (образ) оригинала, но построенный средствами и методами отличными от оригинала б) подобие оригинала в) копия оригинала Ответ: а)</p> <p>2. Экономико-математическая модель – это а) математическое представление экономической системы (объектов, задачи, явлений, процессов и т. п.) б) качественный анализ и интуитивное представление объектов, задач, явлений, процессов экономической системы и ее параметров в) эвристическое описание экономической системы (объектов, задачи, явлений, процессов и т. п.) Ответ: а)</p> <p>3. Метод – это а) подходы, пути и способы постановки и решения той или иной задачи в различных областях человеческой деятельности б) описание особенностей задачи (проблемы) и условий ее решения в) требования к условиям решения той или иной задачи Ответ: а)</p> <p>4. Выберите неверное утверждение а) ЭММ позволяют сделать вывод о поведении объекта в будущем б) ЭММ позволяют управлять объектом + в) ЭММ позволяют выявить оптимальный способ действия</p>
--	--

	<p>г) ЭММ позволяют выявить и формально описать связи между переменными, которые характеризуют исследования</p> <p>Ответ: б)</p> <p>5. Множество всех допустимых решений системы задачи линейного программирования</p> <p>а) является</p> <p>б) выпуклым</p> <p>в) вогнутым</p> <p>г) одновременно выпуклым и вогнутым</p> <p>Ответ: б)</p>
--	---

Описание шкалы оценивания:

Оценка: 5

Нижний порог выполнения задания в процентах: 85

Описание характеристики выполнения знания: Оценка выставляется если задание выполнено в полном объеме или выполнено на 85%

Оценка: 4

Нижний порог выполнения задания в процентах: 75

Описание характеристики выполнения знания: Оценка выставляется если задание выполнено на 75%

Оценка: 3

Нижний порог выполнения задания в процентах: 50

Описание характеристики выполнения знания: Оценка выставляется если задание выполнено на 50%

КМ-2. Графическое решение задачи линейного программирования

Формы реализации: Письменная работа

Тип контрольного мероприятия: Контрольная работа

Вес контрольного мероприятия в БРС: 25

Процедура проведения контрольного мероприятия: Решенные задания по вариантам отправляются в СДО "Прометей" в рамках функционала "письменная работа"

Краткое содержание задания:

Контрольная точка направлена на проверку знаний об экономико-математической модели распределения ресурсов на предприятии. В рамках задания предлагается выполнить контрольную работу «Графическое решение задачи линейного программирования»

Контрольные вопросы/задания:

<p>Уметь: применять методы линейного программирования для нахождения оптимального решения типовых экономических задач и осуществлять анализ их чувствительности к факторам внешнего и внутреннего окружения</p>	<p>1. Предприятие может приобрести не более 15 трехтонных автомашин и не более 10 пятитонных. Отпускная цена трехтонного грузовика - 4000 тыс. руб., пятитонного – 5000 тыс. руб. Предприятие может выделить для приобретения автомашин 100000 тысяч рублей.</p> <p>Необходимо:</p> <p>1. Построить экономико-математическую модель задачи линейного программирования.</p> <p>2. С помощью графического метода решения</p>
---	--

определить, сколько нужно приобрести автомашин, чтобы их суммарная грузоподъемность была максимальной.

2. Предприятие выпускает два вида продукции. На изготовление единицы первого изделия требуется затратить 2 кг сырья первого типа, 3 кг сырья второго типа и 5 кг сырья третьего типа. На изготовление единицы второго изделия требуется затратить 7 кг сырья первого типа, 3 кг сырья второго типа и 1 кг сырья третьего типа. Производство обеспечено сырьем каждого типа в количестве 560 кг, 300 кг и 332 кг соответственно. Рыночная стоимость единицы продукции первого вида составляет 55 тыс. руб., а единицы продукции второго вида – 35 тыс. руб.

Необходимо:

1. Построить экономико-математическую модель задачи линейного программирования.

2. С помощью графического метода решения составить план производства изделий, обеспечивающий максимальную выручку от реализации продукции.

3. Компания изготавливает два вида продукции – П1 и П2. Для производства продукции используются два вида сырья – С1 и С2. Оптовые цены единицы продукции равны: 5 д.е. для П1 и 4 д.е. для П2. Расход сырья на единицу продукции вида П1 и вида П2 дан в таблице.

Таблица - Расход сырья на производство продукции

Сырье	Расход сырья на 1 ед. продукции		Максимальный запас сырья, ед.
		П1	П2
М1	6	4	24
М2	1	2	6

Установлены ограничения на спрос продукции: ежедневный объем производства продукции П2 не должен превышать ежедневный объем производства продукции П1 не более чем на 1 тонну; максимальный ежедневный объем производства П2 не должен превышать 2 т.

Требуется определить:

Какое количество продукции каждого вида должно производить предприятие, чтобы доход от реализации продукции был максимальным?

1. Сформулировать математическую модель задачи линейного программирования.

2. Решить задачу линейного программирования графическим способом (для двух переменных).

4. Предприятие выпускает два вида продукции. На изготовление единицы первого изделия требуется затратить 5 кг сырья первого типа, 4 кг сырья второго типа и 7 кг сырья третьего типа. На изготовление

	<p>единицы второго изделия требуется затратить 7 кг сырья первого типа, 6 кг сырья второго типа и 3 кг сырья третьего типа. Производство обеспечено сырьем каждого типа в количестве 630 кг, 700 кг и 483 кг соответственно. Рыночная стоимость единицы продукции первого вида составляет 20 тыс. руб., а единицы продукции второго вида – 15 тыс. руб</p> <p>Необходимо:</p> <ol style="list-style-type: none"> 1. Построить экономико-математическую модель задачи линейного программирования. 2. С помощью графического метода решения составить план производства изделий, обеспечивающий максимальную выручку от реализации продукции. <p>5. Предприятие может приобрести не более 10 трехтонных автомашин и не более 5 пятитонных. Отпускная цена трехтонного грузовика - 5000 тыс. руб., пятитонного – 7000 тыс. руб. Предприятие может выделить для приобретения автомашин 100000 тысяч рублей.</p> <p>Необходимо:</p> <ol style="list-style-type: none"> 1. Построить экономико-математическую модель задачи линейного программирования. 2. С помощью графического метода решения определить, сколько нужно приобрести автомашин, чтобы их суммарная грузоподъемность была максимальной.
--	---

Описание шкалы оценивания:

Оценка: 5

Нижний порог выполнения задания в процентах: 85

Описание характеристики выполнения знания: Оценка "отлично" выставляется если задание выполнено в полном объеме или выполнено преимущественно верно

Оценка: 4

Нижний порог выполнения задания в процентах: 75

Описание характеристики выполнения знания: Оценка "хорошо" выставляется если большинство вопросов раскрыто. выбрано верное направление для решения задач

Оценка: 3

Нижний порог выполнения задания в процентах: 50

Описание характеристики выполнения знания: Оценка "удовлетворительно" выставляется если задание преимущественно выполнено

КМ-3. Транспортная задача

Формы реализации: Письменная работа

Тип контрольного мероприятия: Контрольная работа

Вес контрольного мероприятия в БРС: 35

Процедура проведения контрольного мероприятия: Решенные задания по вариантам отправляются в СДО "Прометей" в рамках функционала "письменная работа"

Краткое содержание задания:

Контрольная точка направлена на проверку знаний об экономико-математической модели ТЗ. В рамках задания предлагается выполнить контрольную работу «Решение транспортной задачи методом потенциалов»

Контрольные вопросы/задания:

Уметь: разрабатывать транспортные модели для решения традиционных транспортных задач, а также нетрадиционных, таких как задачи управления запасами и распределения оборудования на предприятии

1. Решите задачу. Три электростанции с выработкой 25, 40 и 30 млн. кВтч поставляют электроэнергию в три города. Максимальная потребность в электроэнергии городов оценивается в 30, 35 и 25 млн. кВтч. Цены за млн. кВтч (в долл.) в данных городах приведены в таблице. В августе на 20% возрастает потребность в электроэнергии в каждом из трех городов. Недостаток электроэнергии города могут восполнить из другой электросети по цене 1000 долл. за 1 за млн. кВтч. Третий город не может подключиться к альтернативной электросети. Электростанции планируют разработать наиболее экономичный план распределения электроэнергии и восполнения ее недостатка в августе.

Необходимо:

1. Сформулировать экономическую задачу в виде транспортной модели.
2. Составить оптимальный план распределения электроэнергии электростанциями.
3. Определить стоимость дополнительной энергии для каждого из трех городов.

		Город		
		1	2	3
Электростанция	1	600	700	400
	2	320	300	350
	3	500	480	450

2. Найти оптимальный план транспортной задачи методом потенциалов на основе опорного плана, составленного методом СЗУ. На каждом этапе необходимо предложить несколько вариантов построения цикла. Исходные данные о грузоотправителях (A), грузополучателях (B) и затратах на перевозку единицы груза представлены в таблице.

	B ₁	B ₂	B ₃	B ₄	
A ₁	8	4	2	2	30
A ₂	3	5	6	2	30
A ₃	9	2	1	9	40
A ₄	8	4	7	5	10
A ₅	3	8	8	2	90
	60	70	60	10	X

3. Найти оптимальный план транспортной задачи методом потенциалов на основе опорного плана,

составленного методом минимальной стоимости. На каждом этапе необходимо предложить несколько вариантов построения цикла. Исходные данные о грузоотправителях (А), грузополучателях (В) и затратах на перевозку единицы груза представлены в таблице.

	B_1	B_2	B_3	B_4	
A_1	8	4	2	2	30
A_2	3	5	6	2	30
A_3	9	2	1	9	40
A_4	8	4	7	5	10
A_5	3	8	8	2	90
	60	70	60	10	X

4. Найти оптимальный план транспортной задачи методом потенциалов на основе опорного плана, составленного методом СЗУ. На каждом этапе необходимо предложить несколько вариантов построения цикла. Исходные данные о грузоотправителях (А), грузополучателях (В) и затратах на перевозку единицы груза представлены в таблице.

	B_1	B_2	B_3	B_4	
A_1	2	8	3	1	10
A_2	6	3	5	7	50
A_3	6	6	5	3	70
A_4	2	6	5	3	50
A_5	2	8	1	7	40
	50	40	60	70	X

5. Найти оптимальный план транспортной задачи методом потенциалов на основе опорного плана, составленного методом минимальной стоимости. На каждом этапе необходимо предложить несколько вариантов построения цикла. Исходные данные о грузоотправителях (А), грузополучателях (В) и затратах на перевозку единицы груза представлены в таблице.

		B_1	B_2	B_3	B_4	
A_1	2	8	3	1	10	
A_2	6	3	5	7	50	
A_3	6	6	5	3	70	
A_4	2	6	5	3	50	
A_5	2	8	1	7	40	
	50	40	60	70	X	

Описание шкалы оценивания:

Оценка: 5

Нижний порог выполнения задания в процентах: 85

Описание характеристики выполнения знания: Оценка "отлично" выставляется если задание выполнено в полном объеме или выполнено преимущественно верно

Оценка: 4

Нижний порог выполнения задания в процентах: 75

Описание характеристики выполнения знания: Оценка "хорошо" выставляется если большинство вопросов раскрыто. выбрано верное направление для решения задач

Оценка: 3

Нижний порог выполнения задания в процентах: 50

Описание характеристики выполнения знания: Оценка "удовлетворительно" выставляется если задание преимущественно выполнено

КМ-4. Задача о назначениях

Формы реализации: Письменная работа

Тип контрольного мероприятия: Контрольная работа

Вес контрольного мероприятия в БРС: 25

Процедура проведения контрольного мероприятия: Решенные задания по вариантам отправляются в СДО "Прометей" в рамках функционала "письменная работа"

Краткое содержание задания:

Контрольная точка направлена на проверку знаний об экономико-математической модели задачи о назначениях. В рамках задания предлагается выполнить контрольную работу «Задача о назначениях»

Контрольные вопросы/задания:

Уметь: разрабатывать экономико-математические модели для решения задач распределительного типа в условиях неделимости ресурсов между различными видами работ на предприятии	1. Построить математическую модель задачи о назначениях. Венгерским методом распределить сотрудников по должностям наилучшим образом, решить задачу на минимум.						
		Работа 1	Работа 2	Работа 3	Работа 4	Работа 5	Работа 6
	Сотрудник 1	19	10	12	7	11	14
	Сотрудник 2	13	12	10	9	9	15
Сотрудник 3	12	11	6	10	11	7	

Сотрудник 4	15	8	13	12	6	19
Сотрудник 5	8	17	20	3	13	11
Сотрудник 6	16	9	12	7	4	20

2. Построить математическую модель задачи о назначениях. Венгерским методом распределить сотрудников по должностям наилучшим образом, решить задачу на максимум.

	Работа 1	Работа 2	Работа 3	Работа 4	Работа 5	Работа 6
Сотрудник 1	19	10	12	7	11	14
Сотрудник 2	13	12	10	9	9	15
Сотрудник 3	12	11	6	10	11	7
Сотрудник 4	15	8	13	12	6	19
Сотрудник 5	8	17	20	3	13	11
Сотрудник 6	16	9	12	7	4	20

3. Построить математическую модель задачи о назначениях. Венгерским методом распределить сотрудников по должностям наилучшим образом, решить задачу на минимум.

	Работа 1	Работа 2	Работа 3	Работа 4	Работа 5	Работа 6
Сотрудник 1	16	7	9	4	8	11
Сотрудник 2	16	15	13	12	12	18
Сотрудник 3	15	14	9	13	14	10
Сотрудник 4	12	5	10	9	3	16
Сотрудник 5	11	20	17	6	16	14
Сотрудник 6	13	6	9	3	1	17

4. Построить математическую модель задачи о назначениях. Венгерским методом распределить сотрудников по должностям наилучшим образом, решить задачу на максимум.

	Работа 1	Работа 2	Работа 3	Работа 4	Работа 5	Работа 6
Сотрудник 1	16	7	9	4	8	11
Сотрудник 2	16	15	13	12	12	18

Сотрудник 3	15	14	9	13	14	10
Сотрудник 4	12	5	10	9	3	16
Сотрудник 5	11	20	17	6	16	14
Сотрудник 6	13	6	9	3	1	17

5. Построить математическую модель задачи о назначениях. Венгерским методом распределить сотрудников по должностям наилучшим образом, решить задачу на минимум.

	Работа 1	Работа 2	Работа 3	Работа 4	Работа 5	Работа 6
Сотрудник 1	5	10	12	7	11	14
Сотрудник 2	13	12	10	9	9	15
Сотрудник 3	12	16	6	10	11	7
Сотрудник 4	15	8	13	12	6	6
Сотрудник 5	8	17	20	3	13	11
Сотрудник 6	16	9	12	7	4	20

Описание шкалы оценивания:

Оценка: 5

Нижний порог выполнения задания в процентах: 85

Описание характеристики выполнения знания: Оценка "отлично" выставляется если задание выполнено в полном объеме или выполнено преимущественно верно

Оценка: 4

Нижний порог выполнения задания в процентах: 75

Описание характеристики выполнения знания: Оценка "хорошо" выставляется если большинство вопросов раскрыто. выбрано верное направление для решения задач

Оценка: 3

Нижний порог выполнения задания в процентах: 50

Описание характеристики выполнения знания: Оценка "удовлетворительно" выставляется если задание преимущественно выполнено

СОДЕРЖАНИЕ ОЦЕНОЧНЫХ СРЕДСТВ ПРОМЕЖУТОЧНОЙ АТТЕСТАЦИИ

8 семестр

Форма промежуточной аттестации: Зачет с оценкой

Пример билета



Процедура проведения

В тесте 20 вопросов встречаются вопросы следующих типов: 1. с одним вариантом ответа (в вопросах «один из многих», система сравнивает ответ слушателя с правильным ответом и автоматически выставляет за него назначенный балл) 2. с выбором нескольких вариантов ответов (в вопросах «многие из многих» система оценивает каждый ответ отдельно; есть возможность разрешить слушателю получить за вопрос 0,75 балла, если он выберет 3 правильных ответа из 4) 3. на соответствие слушатель должен привести в соответствие левую и правую часть ответа (в вопросах «соответствие» система оценивает каждый ответ отдельно; можно разрешить слушателю получить за вопрос 0,75 балла, если он выберет 3 правильных ответа из 4) 4. развернутый ответ, вводится в ручную в специально отведенное поле (ручная оценка преподавателем)

1. Перечень компетенций/индикаторов и контрольных вопросов проверки результатов освоения дисциплины

1. Компетенция/Индикатор: ИД-1_{ПК-2} Анализ данных по испытаниям готовых изделий

Вопросы, задания

1. Понятие моделирования. Классификация видов моделирования
2. Понятие математической модели. Принципы построения математической модели
3. Задачи линейного программирования в экономике. Общие классы задач линейного программирования
4. Задачи линейного программирования в экономике. Задача планирования производства. Общая постановка задачи и экономико-математическая модель
5. Способы решения задачи линейного программирования. Экономико-математическая модель производственного планирования
6. Способы решения задачи линейного программирования. Алгоритм симплекс-метода
7. Транспортная задача. Экономико-математическая модель транспортной задачи
8. Транспортная задача. Поиск опорного плана методом Фогеля
9. Задача о назначениях. Экономико-математическая модель задачи о назначениях
10. Задача о назначениях. Решение задачи венгерским методом. Итерации алгоритма венгерского метода

Материалы для проверки остаточных знаний

1. Для оптимального решения транспортной задачи разработан метод:

Ответы:

1. потенциалов 2. минимальной стоимости 3. северо-западного угла 4. симплекс-метод

Верный ответ: 1

2. Симплексный метод решения задач линейного программирования включает определение одного из допустимых базисных решений поставленной задачи (опорного плана):

Ответы:

1. определение правила перехода к не худшему решению 2. проверку оптимальности найденного решения 3. определение одного из допустимых базисных решений поставленной задачи (опорного плана), определение правила перехода к не худшему решению, проверка оптимальности найденного решения

Верный ответ: 3

3. Решение оптимально по Парето, если:

Ответы:

1. значения любого из критериев можно улучшить лишь за счёт ухудшения остальных критериев 2. значения любого из критериев можно улучшить лишь за счёт ухудшения любого одного критерия 3. значения одного из критериев можно улучшить лишь за счёт ухудшения остальных критериев 4. значения любого из критериев можно улучшить лишь за счёт улучшения остальных критериев

Верный ответ: 3

4. Все переменные двойственной задачи будут ...

Ответы:

1. Положительными 2. Отрицательными 3. Нулевыми 4. Любыми

Верный ответ: 1

5. Дана транспортная задача.

Сколько базисных (основных) переменных будет у данной задачи?

Предложение \ спрос 200 Z 170

380 a11 a12 a13

210 a21 a22 a23

Ответы:

- 1 2 3 4

Верный ответ: 4

6. Группы моделей, относящихся к материальному моделированию

Ответы:

1. Пространственное 2. Физическое 3. Аналоговое 4. Формализованное 5. Неформализованное

Верный ответ: 1,2,3

7. Группы моделей, относящихся к идеальному моделированию

Ответы:

1. Пространственное 2. Физическое 3. Аналоговое 4. Знаковое 5. Образное

Верный ответ: 4,5

8. Модель – это

Ответы:

а) аналог (образ) оригинала, но построенный средствами и методами отличными от оригинала

б) подобие оригинала

в) копия оригинала

Верный ответ: а

9.Экономико-математическая модель – это

Ответы:

- а) математическое представление экономической системы (объектов, задачи, явлений, процессов и т. п.)
- б) качественный анализ и интуитивное представление объектов, задач, явлений, процессов экономической системы и ее параметров
- в) эвристическое описание экономической системы (объектов, задачи, явлений, процессов и т. п.)

Верный ответ: а

10.Метод – это

Ответы:

- а) подходы, пути и способы постановки и решения той или иной задачи в различных областях человеческой деятельности
- б) описание особенностей задачи (проблемы) и условий ее решения
- в) требования к условиям решения той или иной задачи

Верный ответ: а

II. Описание шкалы оценивания

Оценка: 5

Нижний порог выполнения задания в процентах: 80

Описание характеристики выполнения знания: Работа выполнена в рамках "продвинутого" уровня. Ответы даны верно, четко сформулированные особенности практических решений

Оценка: 4

Нижний порог выполнения задания в процентах: 60

Описание характеристики выполнения знания: Работа выполнена в рамках "базового" уровня. Большинство ответов даны верно. В части материала есть незначительные недостатки

Оценка: 3

Нижний порог выполнения задания в процентах: 40

Описание характеристики выполнения знания: Работа выполнена в рамках "порогового" уровня. Основная часть задания выполнена верно. на вопросы углубленного уровня

III. Правила выставления итоговой оценки по курсу

Оценка определяется в соответствии с Положением о балльно-рейтинговой системе для студентов НИУ «МЭИ» на основании семестровой и аттестационной составляющих.