

**Министерство науки и высшего образования РФ
Федеральное государственное бюджетное образовательное учреждение
высшего образования
«Национальный исследовательский университет «МЭИ»**

Направление подготовки/специальность: 38.03.01 Экономика

Наименование образовательной программы: Корпоративные финансы

Уровень образования: высшее образование - бакалавриат

Форма обучения: Очная


**Оценочные материалы
по дисциплине
Математический анализ**

**Москва
2021**

ОЦЕНОЧНЫЕ МАТЕРИАЛЫ РАЗРАБОТАЛ:

Преподаватель

(должность)

	Подписано электронной подписью ФГБОУ ВО «НИУ «МЭИ»	
	Сведения о владельце ЦЭП МЭИ	
	Владелец	Капицына Т.В.
	Идентификатор	R2b1e4b7e-KapitsynaTV-1a69b3e3

(подпись)


Т.В.
Капицына

(расшифровка
подписи)

СОГЛАСОВАНО:

Руководитель
образовательной
программы

(должность, ученая степень,
ученое звание)

	Подписано электронной подписью ФГБОУ ВО «НИУ «МЭИ»	
	Сведения о владельце ЦЭП МЭИ	
	Владелец	Андрошина И.С.
	Идентификатор	R76247ef5-AndroshinaIS-3e3ea711


(подпись)

И.С.
Андрошина

(расшифровка
подписи)

Заведующий
выпускающей кафедры

(должность, ученая степень,
ученое звание)

	Подписано электронной подписью ФГБОУ ВО «НИУ «МЭИ»	
	Сведения о владельце ЦЭП МЭИ	
	Владелец	Курдюкова Г.Н.
	Идентификатор	Rbab6dd0d-KurdiukovaGN-ca01d8c

(подпись)

Г.Н.
Курдюкова

(расшифровка
подписи)

ОБЩАЯ ЧАСТЬ

Оценочные материалы по дисциплине предназначены для оценки: достижения обучающимися запланированных результатов обучения по дисциплине, этапа формирования запланированных компетенций и уровня освоения дисциплины.

Оценочные материалы по дисциплине включают оценочные средства для проведения мероприятий текущего контроля успеваемости и промежуточной аттестации.

Формируемые у обучающегося компетенции:

1. ОПК-2 Способен осуществлять сбор, обработку и статистический анализ данных, необходимых для решения поставленных экономических задач

ИД-1 Применяет аппарат математического анализа, линейной алгебры, дифференциального и интегрального исчисления

и включает:

для текущего контроля успеваемости:

Форма реализации: Письменная работа

1. «Интегралы» (Контрольная работа)
2. «Пределы» (Контрольная работа)
3. Графики (Контрольная работа)
4. Дифференцирование (Контрольная работа)

БРС дисциплины

2 семестр

Раздел дисциплины	Веса контрольных мероприятий, %				
	Индекс КМ:	КМ-1	КМ-2	КМ-3	КМ-4
	Срок КМ:	3	7	11	15
Пределы					
Пределы		+		+	
Дифференциальное исчисление функции одной переменной					
Дифференциальное исчисление функции одной переменной			+	+	
Интегральное исчисление функции одной переменной					
Интегральное исчисление функции одной переменной					+
Вес КМ:		25	25	25	25

\$Общая часть/Для промежуточной аттестации\$

СОДЕРЖАНИЕ ОЦЕНОЧНЫХ СРЕДСТВ ТЕКУЩЕГО КОНТРОЛЯ

I. Оценочные средства для оценки запланированных результатов обучения по дисциплине, соотнесенных с индикаторами достижения компетенций

Индекс компетенции	Индикатор	Запланированные результаты обучения по дисциплине	Контрольная точка
ОПК-2	ИД-1 _{опк-2} Применяет аппарат математического анализа, линейной алгебры, дифференциального и интегрального исчисления	<p>Знать:</p> <p>основные понятия и теоремы теории пределов; понятия неопределенного и определенного интеграла, основные методы вычисления</p> <p>Уметь:</p> <p>вычислять производные, дифференциалы и решать стандартные задачи с непосредственным применением этих понятий</p> <p>проводить полное исследование поведения функции и строить графики</p>	<p>«Пределы» (Контрольная работа)</p> <p>Дифференцирование (Контрольная работа)</p> <p>Графики (Контрольная работа)</p> <p>«Интегралы» (Контрольная работа)</p>

II. Содержание оценочных средств. Шкала и критерии оценивания

КМ-1. «Пределы»

Формы реализации: Письменная работа

Тип контрольного мероприятия: Контрольная работа

Вес контрольного мероприятия в БРС: 25

Процедура проведения контрольного мероприятия: Контрольную работу «Пределы» студенты пишут на практическом занятии на 2 часа.

Краткое содержание задания:

Простейшие приемы вычисления пределов. Раскрытие неопределенностей и вычисление пределов с помощью таблицы эквивалентных бесконечно малых.

Контрольные вопросы/задания:

Знать: основные понятия и теоремы теории пределов;	<ol style="list-style-type: none">1. Вычислить предел $\lim_{n \rightarrow \infty} \frac{(n+6)^2 - (n-5)^2}{2n+12}$2. Вычислить предел $\lim_{n \rightarrow \infty} \frac{\sqrt{n^2+3n+1}}{\sqrt[4]{n^2+2n}}$3. Вычислить предел $\lim_{x \rightarrow 5} \frac{\sqrt{x-1}-2}{x-5}$4. Вычислить предел $\lim_{x \rightarrow 0} \frac{\ln(1+x)}{\sqrt[7]{1+x}-1}$
--	--

Описание шкалы оценивания:

Оценка: 5

Нижний порог выполнения задания в процентах: 95

Описание характеристики выполнения знания: контрольная работа считается выполненной на оценку «Отлично», если работа выполнена полностью; в логических рассуждениях и обоснованиях нет пробелов и ошибок; в решении нет математических ошибок (возможна одна неточность, описка, не являющаяся следствием незнания или непонимания учебного материала)

Оценка: 4

Нижний порог выполнения задания в процентах: 80

Описание характеристики выполнения знания: контрольная работа считается выполненной на оценку «Хорошо», если работа выполнена полностью, но обоснования шагов решения недостаточны; допущена одна ошибка или два-три недочета в выкладках

Оценка: 3

Нижний порог выполнения задания в процентах: 60

Описание характеристики выполнения знания: контрольная работа считается выполненной на оценку «Удовлетворительно», если допущены более одной ошибки или более двух-трех недочетов в выкладках, но учащийся владеет обязательными умениями по проверяемой теме

КМ-2. Дифференцирование

Формы реализации: Письменная работа

Тип контрольного мероприятия: Контрольная работа

Вес контрольного мероприятия в БРС: 25

Процедура проведения контрольного мероприятия: Контрольную работу «Дифференцирование» студенты пишут на практическом занятии 2 часа.

Краткое содержание задания:

Вычисление производной сложной функции, вычисление логарифмической производной, вычисление производных функций, заданных неявно и параметрически. Вычисление дифференциалов высших порядков.

Контрольные вопросы/задания:

Уметь: вычислять производные, дифференциалы и решать стандартные задачи с непосредственным применением этих понятий	1. найти производную	$y =$
	$\sqrt[3]{x^3 + 3x} + 3$	
	2. найти производную	$y =$
	$\frac{2x^9}{9+x}$	
	3. найти производную	$y =$
	$e^{2x} \sin(4x)$	
	4. найти производную	$y =$
	$x \ln^2 x$	

Описание шкалы оценивания:

Оценка: 5

Нижний порог выполнения задания в процентах: 95

Описание характеристики выполнения знания: контрольная работа считается выполненной на оценку «Отлично», если работа выполнена полностью; в логических рассуждениях и обоснованиях нет пробелов и ошибок; в решении нет математических ошибок (возможна одна неточность, описка, не являющаяся следствием незнания или непонимания учебного материала)

Оценка: 4

Нижний порог выполнения задания в процентах: 80

Описание характеристики выполнения знания: контрольная работа считается выполненной на оценку «Хорошо», если работа выполнена полностью, но обоснования шагов решения недостаточны; допущена одна ошибка или два-три недочета в выкладках

Оценка: 3

Нижний порог выполнения задания в процентах: 60

Описание характеристики выполнения знания: контрольная работа считается выполненной на оценку «Удовлетворительно», если допущены более одной ошибки или более двух- трех недочетов в выкладках, но учащийся владеет обязательными умениями по проверяемой теме

КМ-3. Графики

Формы реализации: Письменная работа

Тип контрольного мероприятия: Контрольная работа

Вес контрольного мероприятия в БРС: 25

Процедура проведения контрольного мероприятия: Кр проводится на занятии в виде письменной работы на 2 часа

Краткое содержание задания:

построение графиков функций

Контрольные вопросы/задания:

Уметь: проводить полное исследование поведения функции и строить графики	1. Найти наибольшее и наименьшее значения на отрезке
	2. найти асимптоты графика функции
	3. провести полное исследование и построить график

	функции $y = \frac{1+x^2}{2x}$
--	--------------------------------

Описание шкалы оценивания:

Оценка: 5

Нижний порог выполнения задания в процентах: 95

Описание характеристики выполнения знания: контрольная работа считается выполненной на оценку «Отлично», если работа выполнена полностью; в логических рассуждениях и обоснованиях нет пробелов и ошибок; в решении нет математических ошибок (возможна одна неточность, описка, не являющаяся следствием незнания или непонимания учебного материала)

Оценка: 4

Нижний порог выполнения задания в процентах: 80

Описание характеристики выполнения знания: контрольная работа считается выполненной на оценку «Хорошо», если работа выполнена полностью, но обоснования шагов решения недостаточны; допущена одна ошибка или два-три недочета в выкладках

Оценка: 3

Нижний порог выполнения задания в процентах: 60

Описание характеристики выполнения знания: контрольная работа считается выполненной на оценку «Удовлетворительно», если допущены более одной ошибки или более двух- трех недочетов в выкладках, но учащийся владеет обязательными умениями по проверяемой теме

КМ-4. «Интегралы»

Формы реализации: Письменная работа

Тип контрольного мероприятия: Контрольная работа

Вес контрольного мероприятия в БРС: 25

Процедура проведения контрольного мероприятия: Контрольную работу «интегралы» студенты пишут на практическом занятии 2 часа.

Краткое содержание задания:

вычисление неопределенных и определенных интегралов

Контрольные вопросы/задания:

Знать: понятия неопределенного и определенного интеграла, основные методы вычисления	1. Вычислить $\int (\sqrt[3]{x} - \frac{7}{x^7} + 3) dx$ 2. Вычислить $\int (\sqrt[3]{x} - \frac{7}{x^7} + 3) dx$ 3. Вычислить площадь фигуры 4. Вычислить длину кривой
--	--

Описание шкалы оценивания:

Оценка: 5

Нижний порог выполнения задания в процентах: 95

Описание характеристики выполнения знания: контрольная работа считается выполненной на оценку «Отлично», если работа выполнена полностью; в логических рассуждениях и обоснованиях нет пробелов и ошибок; в решении нет математических ошибок (возможна одна неточность, описка, не являющаяся следствием незнания или непонимания учебного материала)

Оценка: 4

Нижний порог выполнения задания в процентах: 80

Описание характеристики выполнения знания: контрольная работа считается выполненной на оценку «Хорошо», если работа выполнена полностью, но обоснования шагов решения недостаточны; допущена одна ошибка или два-три недочета в выкладках

Оценка: 3

Нижний порог выполнения задания в процентах: 60

Описание характеристики выполнения знания: допущены более одной ошибки или более двух- трех недочетов в выкладках, но учащийся владеет обязательными умениями по проверяемой теме

СОДЕРЖАНИЕ ОЦЕНОЧНЫХ СРЕДСТВ ПРОМЕЖУТОЧНОЙ АТТЕСТАЦИИ

2 семестр

Форма промежуточной аттестации: Экзамен

Пример билета

1. Дать определение предела функции в точке.
2. Вычислить предел функции: $\lim_{x \rightarrow 0} \frac{\ln(1+6x)}{\arcsin(3x)}$
3. Найти производную: $y = \cos \sqrt[3]{x^2 + 5}$
4. Вычислить интеграл: $\int \frac{dx}{x^2 + 2x - 3}$

Процедура проведения

Экзамен проводится в виде устного опроса с предварительной подготовкой студента по материалам выбранного экзаменационного билета в течение 60-70 мин. учебного времени

1. Перечень компетенций/индикаторов и контрольных вопросов проверки результатов освоения дисциплины

1. Компетенция/Индикатор: ИД-1_{ОПК-2} Применяет аппарат математического анализа, линейной алгебры, дифференциального и интегрального исчисления

Вопросы, задания

1. Предел функции в точке. Геометрический смысл предела функции в точке.
2. Теорема об ограниченности функции, имеющей предел. Теорема о единственности предела. Теорема о сохранении знака функции, имеющей предел.
3. Бесконечно малые функции и их свойства. Теорема о связи бесконечно малой и функции, имеющей предел.
4. Непрерывность функции в точке.
5. Сравнение бесконечно малых. Эквивалентные бесконечно малые. Таблица эквивалентностей.
6. Бесконечно большие функции. Их связь с бесконечно малыми функциями.
7. Предел функции в бесконечности. Наклонные асимптоты графика функции.
8. Производная, ее геометрический и механический смысл.
9. Вычисление производных некоторых элементарных функций. Гиперболические функции. Таблица производных. Правила дифференцирования.
10. Дифференцируемость функции. Дифференциал.
11. Обратная функция. Дифференцирование обратной функции. Производные обратных тригонометрических функций. Логарифмическое дифференцирование.
12. Теорема Ролля и следствия из нее (теоремы Лагранжа, Коши). Правило Лопиталя.
13. Условия возрастания и убывания функции, дифференцируемой на интервале. Локальный экстремум. Необходимое условие локального экстремума.
14. Достаточное условие экстремума. Наибольшее и наименьшее значения функции, непрерывной на отрезке.
15. Направление выпуклости графика функции. Достаточное условие выпуклости. Точки перегиба. Достаточное условие существования точки перегиба. Общая схема исследования функции, построение графика.
16. Первообразная. Свойство первообразных. Неопределенный интеграл и его свойства.

17. Таблица неопределенных интегралов. Замена переменных и интегрирование по частям.
 18. Определенный интеграл
 19. Вычисление площади плоской фигуры
 20. вычисление длины дуги плоской кривой

Материалы для проверки остаточных знаний

1.

Figure 1 найти предел

Ответы:

- 1 Вынесение в числителе и знаменателе за скобку старшей степени
 2 Предел равен бесконечности

Верный ответ: 2

2. Вычислить производную функции $y = x^x$

Ответы:

- 1) x^x 2) $x^x(1+\ln x)$ 3) $x \ln x$

Верный ответ: 2

3. Вычислить производную функции: $f(x) = \sin^2 x$

Ответы:

- 1) $\sin 2x$ 2) $\cos 2x$ 3) $\sin x$ 4) $\cos x$

Верный ответ: 1

4. Вычислить $\int \frac{dx}{(x-3)^2+1}$

Ответы:

- 1) $\ln(x-3)$ 2) $\arctg(x-3) + C$ 3) $1/(x-3) + C$ 4) не существует

Верный ответ: 2

5. Наклонной асимптотой графика функции $y = \frac{3x^2+x+1}{x}$ является прямая:

Ответы:

- 1) $y = -x+4$ 2) $y = 3x + 1$ 3) $y = 3x$ 4) $x = 0$

Верный ответ: 2

6. Точка $x=0$ для функции $f(x) = \frac{1}{x^2+1}$ является:

Ответы:

- 1) точкой максимума 2) точкой минимума 3) точкой перегиба

Верный ответ: 1

7. Уравнение нормали к графику функции $y = e^x$ в точке $x = 0$ есть:

Ответы:

- 1) $x + y - 1 = 0$ 2) $y = x$ 3) $x = 2$ 4) $y - 2x + 14 = 0$

Верный ответ: 1

8. Уравнение касательной к графику функции $y = x^3$ в точке $x_0 = 2$ есть:

Ответы:

- 1) $y - 12x + 16 = 0$ 2) $y = x$ 3) $y = 2$ 4) $x = 2$

Верный ответ: 1

9. Вычислить предел: $\lim_{x \rightarrow 0} \frac{\sin 5x}{\operatorname{tg} 8x}$

Ответы:

- 1) $-1/3$ 2) 0 3) 1.5 4) $5/8$ 5) -2

Верный ответ: 4

10. Вычислить предел: $\lim_{x \rightarrow 2} \left(\frac{x+2}{x+1} \right)^x$

Ответы:

- 1) $16/9$ 2) 0 3) 8 4) $-5/3$ 5) -2

Верный ответ: 1

II. Описание шкалы оценивания

Оценка: 5

Нижний порог выполнения задания в процентах: 95

Описание характеристики выполнения знания: Работа выполнена в рамках "продвинутого" уровня. Ответы даны верно, четко сформулированные особенности практических решений

Оценка: 4

Нижний порог выполнения задания в процентах: 80

Описание характеристики выполнения знания: Работа выполнена в рамках "базового" уровня. Большинство ответов даны верно. В части материала есть незначительные недостатки

Оценка: 3

Нижний порог выполнения задания в процентах: 60

Описание характеристики выполнения знания: Работа выполнена в рамках "порогового" уровня. Основная часть задания выполнена верно. на вопросы углубленного уровня

III. Правила выставления итоговой оценки по курсу