

**Министерство науки и высшего образования РФ
Федеральное государственное бюджетное образовательное учреждение
высшего образования
«Национальный исследовательский университет «МЭИ»**

Направление подготовки/специальность: 15.03.06 Мехатроника и робототехника

Наименование образовательной программы: Компьютерные технологии управления в робототехнике и мехатронике

Уровень образования: высшее образование - бакалавриат

Форма обучения: Очная


**Оценочные материалы
по дисциплине
Высшая математика**

**Москва
2023**

ОЦЕНОЧНЫЕ МАТЕРИАЛЫ РАЗРАБОТАЛ:

Преподаватель

(должность)

| | | |
|---|--|--------------------------------|
|  | Подписано электронной подписью ФГБОУ ВО «НИУ «МЭИ» | |
| | Сведения о владельце ЦЭП МЭИ | |
| | Владелец | Капицына Т.В. |
| | Идентификатор | R2b1e4b7e-KapitsynaTV-1a69b3e3 |

(подпись)

Т.В.


Капицына

(расшифровка
подписи)

СОГЛАСОВАНО:

Руководитель
образовательной
программы

(должность, ученая степень, ученое
звание)

| | | |
|---|--|-----------------------------|
|  | Подписано электронной подписью ФГБОУ ВО «НИУ «МЭИ» | |
| | Сведения о владельце ЦЭП МЭИ | |
| | Владелец | Адамов Б.И. |
| | Идентификатор | R2db20bbf-AdamovBI-4e0d2620 |


(подпись)

Б.И. Адамов

(расшифровка
подписи)

Заведующий
выпускающей кафедры

(должность, ученая степень, ученое
звание)

| | | |
|---|--|--------------------------------|
|  | Подписано электронной подписью ФГБОУ ВО «НИУ «МЭИ» | |
| | Сведения о владельце ЦЭП МЭИ | |
| | Владелец | Меркурьев И.В. |
| | Идентификатор | Rd52c763c-MerkuryevIV-1e4a883f |

(подпись)

И.В.

Меркурьев

(расшифровка
подписи)

ОБЩАЯ ЧАСТЬ

Оценочные материалы по дисциплине предназначены для оценки: достижения обучающимися запланированных результатов обучения по дисциплине, этапа формирования запланированных компетенций и уровня освоения дисциплины.

Оценочные материалы по дисциплине включают оценочные средства для проведения мероприятий текущего контроля успеваемости и промежуточной аттестации.

Формируемые у обучающегося компетенции:

1. ОПК-1 Способен применять естественнонаучные и общеинженерные знания, методы математического анализа и моделирования в профессиональной деятельности

ИД-3 Применяет математический аппарат теории кратных и поверхностных интегралов, векторного анализа, теории функций комплексного переменного, операционного исчисления

ИД-4 Применяет математический аппарат теории вероятностей и математической статистик

и включает:

для текущего контроля успеваемости:

Форма реализации: Письменная работа

1. Вычисление интегралов с помощью вычетов (Контрольная работа)
2. Двойные интегралы (Контрольная работа)
3. Действия с комплексными числами (Контрольная работа)
4. Кратные интегралы и векторный анализ (Расчетно-графическая работа)
5. Математическая статистика (Расчетно-графическая работа)
6. Операционное исчисление (Контрольная работа)
7. Случайные величины и их числовые характеристики (Контрольная работа)
8. Случайные события (Контрольная работа)

БРС дисциплины

3 семестр

| Раздел дисциплины | Веса контрольных мероприятий, % | | | | |
|--|---------------------------------|------|------|------|------|
| | Индекс КМ: | КМ-1 | КМ-2 | КМ-3 | КМ-4 |
| | Срок КМ: | 3 | 7 | 11 | 15 |
| Кратные, поверхностные, криволинейные интегралы и векторный анализ | | | | | |
| Кратные, поверхностные, криволинейные интегралы и векторный анализ | | + | + | | |
| Функции комплексного переменного. Разложение в ряды | | | | | |
| Функции комплексного переменного. Разложение в ряды | | | | + | + |
| | Вес КМ: | 25 | 25 | 25 | 25 |

4 семестр

| Раздел дисциплины | Веса контрольных мероприятий, % | | | | |
|-------------------|---------------------------------|------|------|------|------|
| | Индекс | КМ-1 | КМ-2 | КМ-3 | КМ-4 |

| | КМ: | | | | |
|---------------------------|----------|----|----|----|----|
| | Срок КМ: | 3 | 7 | 11 | 15 |
| Операционное исчисление | | | | | |
| Операционное исчисление | + | | | | |
| Теория вероятностей | | | | | |
| Теория вероятностей | | | + | + | |
| Математическая статистика | | | | | |
| Математическая статистика | | | | | + |
| | Вес КМ: | 25 | 25 | 25 | 25 |

\$Общая часть/Для промежуточной аттестации\$

СОДЕРЖАНИЕ ОЦЕНОЧНЫХ СРЕДСТВ ТЕКУЩЕГО КОНТРОЛЯ

I. Оценочные средства для оценки запланированных результатов обучения по дисциплине, соотнесенных с индикаторами достижения компетенций

| Индекс компетенции | Индикатор | Запланированные результаты обучения по дисциплине | Контрольная точка |
|--------------------|---|--|--|
| ОПК-1 | ИД-3 _{ОПК-1} Применяет математический аппарат теории кратных и поверхностных интегралов, векторного анализа, теории функций комплексного переменного, операционного исчисления | <p>Знать:</p> <ul style="list-style-type: none"> -определение потока векторного и его физический смысл, теорему Остроградского–Гаусса и формулу Стокса, формулу Грина, понятие циркуляции и ротора векторного поля и их физический смысл понятие функции комплексного переменного, ее предел и непрерывность, основные определения и теоремы теории функции комплексного переменного <p>Уметь:</p> <ul style="list-style-type: none"> дифференцировать и интегрировать функции комплексного переменного, применять теорию вычетов для вычисления интегралов вычислять кратные | <ul style="list-style-type: none"> Двойные интегралы (Контрольная работа) Кратные интегралы и векторный анализ (Расчетно-графическая работа) Действия с комплексными числами (Контрольная работа) Вычисление интегралов с помощью вычетов (Контрольная работа) Операционное исчисление (Контрольная работа) |

| | | | |
|-------|---|--|---|
| | | интегралы | |
| ОПК-1 | ИД-4 _{ОПК-1} Применяет математический аппарат теории вероятностей и математической статистик | Знать: -основные теоремы теории вероятностей определение случайной величины и ее числовые характеристики | Случайные события (Контрольная работа) Случайные величины и их числовые характеристики (Контрольная работа) Математическая статистика (Расчетно-графическая работа) |

II. Содержание оценочных средств. Шкала и критерии оценивания

3 семестр

КМ-1. Двойные интегралы

Формы реализации: Письменная работа

Тип контрольного мероприятия: Контрольная работа

Вес контрольного мероприятия в БРС: 25

Процедура проведения контрольного мероприятия: Контрольную работу «Двойные интегралы» студенты пишут на практическом занятии на 2 часа.

Краткое содержание задания:

Вычисление двойных интегралов в декартовых и полярных координатах

Контрольные вопросы/задания:

| | |
|------------------------------------|---|
| Уметь: вычислять кратные интегралы | 1. Вычислить двойной интеграл в полярных координатах 2. Вычислить площадь фигуры, ограниченной линиями 3. Вычислить $\int_0^0 \int_1^1 (3xy - x) \, differentialDxdy$ |
|------------------------------------|---|

Описание шкалы оценивания:

Оценка: 5

Нижний порог выполнения задания в процентах: 95

Описание характеристики выполнения знания: контрольная работа считается выполненной на оценку «Отлично», если работа выполнена полностью; в логических рассуждениях и обоснованиях нет пробелов и ошибок; в решении нет математических ошибок (возможна одна неточность, описка, не являющаяся следствием незнания или непонимания учебного материала)

Оценка: 4

Нижний порог выполнения задания в процентах: 80

Описание характеристики выполнения знания: контрольная работа считается выполненной на оценку «Хорошо», если работа выполнена полностью, но обоснования шагов решения недостаточны; допущена одна ошибка или два-три недочета в выкладках

Оценка: 3

Нижний порог выполнения задания в процентах: 60

Описание характеристики выполнения знания: контрольная работа считается выполненной на оценку «Удовлетворительно», если допущены более одной ошибки или более двух-трех недочетов в выкладках, но учащийся владеет обязательными умениями по проверяемой теме

КМ-2. Кратные интегралы и векторный анализ

Формы реализации: Письменная работа

Тип контрольного мероприятия: Расчетно-графическая работа

Вес контрольного мероприятия в БРС: 25

Процедура проведения контрольного мероприятия: Защита типового расчета проходит в виде письменной работы на практическом занятии 2 часа

Краткое содержание задания:

Вычисление объема и площади поверхности. вычисление потока и циркуляции векторного поля

Контрольные вопросы/задания:

| | |
|---|---|
| <p>Знать: -определение потока векторного и его физический смысл, теорему Остроградского–Гаусса и формулу Стокса, формулу Грина, понятие циркуляции и ротора векторного поля и их физический смысл</p> | <p>1. Вычислить $\int \int \int \frac{x}{\text{nbsp;}} \text{differential} Dxdy, x + y + 4x = 0, z = 8 - y, z = 0$</p> <p>2. основные понятия теории кратных интегралов</p> <p>3. Найти модуль потока векторного поля $\vec{a} = x^2 \vec{i} - z^2 \vec{j} + y^2 \vec{k}$ через замкнутую поверхность $\Sigma: \begin{cases} z = x^2 + y^2, \text{nbsp;}; z = 4 \\ x = 0, \text{nbsp;}; y = 0, \text{nbsp;}; x \geq 0, \text{nbsp;}; y \geq 0 \end{cases}$</p> |
|---|---|

Описание шкалы оценивания:

Оценка: 5

Нижний порог выполнения задания в процентах: 95

Описание характеристики выполнения знания: работа считается выполненной на оценку «Отлично», если работа выполнена полностью; в логических рассуждениях и обоснованиях нет пробелов и ошибок; в решении нет математических ошибок (возможна одна неточность, описка, не являющаяся следствием незнания или непонимания учебного материала)

Оценка: 4

Нижний порог выполнения задания в процентах: 80

Описание характеристики выполнения знания: работа считается выполненной на оценку «Хорошо», если работа выполнена полностью, но обоснования шагов решения недостаточны; допущена одна ошибка или два-три недочета в выкладках

Оценка: 3

Нижний порог выполнения задания в процентах: 60

Описание характеристики выполнения знания: работа считается выполненной на оценку «Удовлетворительно», если допущены более одной ошибки или более двух- трех недочетов в выкладках, но учащийся владеет обязательными умениями по проверяемой теме

КМ-3. Действия с комплексными числами

Формы реализации: Письменная работа

Тип контрольного мероприятия: Контрольная работа

Вес контрольного мероприятия в БРС: 25

Процедура проведения контрольного мероприятия: Контрольную работу «Действия с комплексными числами» студенты пишут на практическом занятии на 2 часа.

Краткое содержание задания:

Действия с комплексными числами

Контрольные вопросы/задания:

| | |
|-------------------------------|--|
| <p>Знать: понятие функции</p> | <p>1. Указать модуль и главный аргумент комплексного</p> |
|-------------------------------|--|

| | |
|---|---|
| комплексного переменного, ее предел и непрерывность, основные определения и теоремы теории функции комплексного переменного | числа. Записать комплексное число в тригонометрической и показательной формах $z = -3\sqrt{2 + 3\sqrt{2}i}$ 2. Вычертить область, заданную неравенствами $\{ z - 1 - i < 3, z \leq 1\}$ |
|---|---|

Описание шкалы оценивания:

Оценка: 5

Нижний порог выполнения задания в процентах: 95

Описание характеристики выполнения знания: контрольная работа считается выполненной на оценку «Отлично», если работа выполнена полностью; в логических рассуждениях и обоснованиях нет пробелов и ошибок; в решении нет математических ошибок (возможна одна неточность, описка, не являющаяся следствием незнания или непонимания учебного материала)

Оценка: 4

Нижний порог выполнения задания в процентах: 80

Описание характеристики выполнения знания: контрольная работа считается выполненной на оценку «Хорошо», если работа выполнена полностью, но обоснования шагов решения недостаточны; допущена одна ошибка или два-три недочета в выкладках

Оценка: 3

Нижний порог выполнения задания в процентах: 60

Описание характеристики выполнения знания: контрольная работа считается выполненной на оценку «Удовлетворительно», если допущены более одной ошибки или более двух- трех недочетов в выкладках, но учащийся владеет обязательными умениями по проверяемой теме

КМ-4. Вычисление интегралов с помощью вычетов

Формы реализации: Письменная работа

Тип контрольного мероприятия: Контрольная работа

Вес контрольного мероприятия в БРС: 25

Процедура проведения контрольного мероприятия: Контрольную работу «Вычисление интегралов с помощью вычетов» студенты пишут на практическом занятии на 2 часа.

Краткое содержание задания:

применение теории вычетов к вычислению интегралов

Контрольные вопросы/задания:

| | |
|--|--|
| Знать: понятие функции комплексного переменного, ее предел и непрерывность, основные определения и теоремы теории функции комплексного переменного | 1. Определить тип изолированной особой точки 2. сформулировать теорему Коши о вычетах |
|--|--|

Описание шкалы оценивания:

Оценка: 5

Нижний порог выполнения задания в процентах: 95

Описание характеристики выполнения знания: контрольная работа считается выполненной на оценку «Отлично», если работа выполнена полностью; в логических рассуждениях и обоснованиях нет пробелов и ошибок; в решении нет математических ошибок (возможна

одна неточность, описка, не являющаяся следствием незнания или непонимания учебного материала)

Оценка: 4

Нижний порог выполнения задания в процентах: 80

Описание характеристики выполнения знания: контрольная работа считается выполненной на оценку «Хорошо», если работа выполнена полностью, но обоснования шагов решения недостаточны; допущена одна ошибка или два-три недочета в выкладках

Оценка: 3

Нижний порог выполнения задания в процентах: 60

Описание характеристики выполнения знания: контрольная работа считается выполненной на оценку «Удовлетворительно», если допущены более одной ошибки или более двух- трех недочетов в выкладках, но учащийся владеет обязательными умениями по проверяемой теме

4 семестр

КМ-1. Операционное исчисление

Формы реализации: Письменная работа

Тип контрольного мероприятия: Контрольная работа

Вес контрольного мероприятия в БРС: 25

Процедура проведения контрольного мероприятия: Контрольную работу «Операционное исчисление» студенты пишут на практическом занятии на 2 часа.

Краткое содержание задания:

решение дифференциальных уравнений операционным методом

Контрольные вопросы/задания:

| | |
|--|---|
| Уметь: дифференцировать и интегрировать функции комплексного переменного, применять теорию вычетов для вычисления интегралов | 1.Операционным методом решить задачу Коши $x + x = 5, x(0) = 4, x'(0) = 1$ 2.Уметь находить оригинал по данному изображению для простейших элементарных функций 3.Уметь находить изображение по данному оригиналу |
|--|---|

Описание шкалы оценивания:

Оценка: 5

Нижний порог выполнения задания в процентах: 95

Описание характеристики выполнения знания: контрольная работа считается выполненной на оценку «Отлично», если работа выполнена полностью; в логических рассуждениях и обоснованиях нет пробелов и ошибок; в решении нет математических ошибок (возможна одна неточность, описка, не являющаяся следствием незнания или непонимания учебного материала)

Оценка: 4

Нижний порог выполнения задания в процентах: 80

Описание характеристики выполнения знания: контрольная работа считается выполненной на оценку «Хорошо», если работа выполнена полностью, но обоснования шагов решения недостаточны; допущена одна ошибка или два-три недочета в выкладках

Оценка: 3

Нижний порог выполнения задания в процентах: 60

Описание характеристики выполнения знания: контрольная работа считается выполненной на оценку «Удовлетворительно», если допущены более одной ошибки или более двух- трех недочетов в выкладках, но учащийся владеет обязательными умениями по проверяемой теме

КМ-2. Случайные события

Формы реализации: Письменная работа

Тип контрольного мероприятия: Контрольная работа

Вес контрольного мероприятия в БРС: 25

Процедура проведения контрольного мероприятия: Контрольную работу «Случайные события» студенты пишут на практическом занятии на 2 часа.

Краткое содержание задания:

вычисление вероятностей случайных событий с использованием теорем сложения и умножения вероятностей

Контрольные вопросы/задания:

| | |
|--|---|
| Знать: -основные теоремы теории вероятностей | 1.Из колоды в 52 карты извлекаются наудачу 4 карты. Найти вероятность того, что среди них окажутся ровно две пики равна 2.В течение часа на коммутатор поступает в среднем 120 телефонных вызовов. Какова вероятность того, что в течение заданной минуты поступит 4 вызова? |
|--|---|

Описание шкалы оценивания:

Оценка: 5

Нижний порог выполнения задания в процентах: 95

Описание характеристики выполнения знания: контрольная работа считается выполненной на оценку «Отлично», если работа выполнена полностью; в логических рассуждениях и обоснованиях нет пробелов и ошибок; в решении нет математических ошибок (возможна одна неточность, описка, не являющаяся следствием незнания или непонимания учебного материала)

Оценка: 4

Нижний порог выполнения задания в процентах: 80

Описание характеристики выполнения знания: контрольная работа считается выполненной на оценку «Хорошо», если работа выполнена полностью, но обоснования шагов решения недостаточны; допущена одна ошибка или два-три недочета в выкладках

Оценка: 3

Нижний порог выполнения задания в процентах: 60

Описание характеристики выполнения знания: контрольная работа считается выполненной на оценку «Удовлетворительно», если допущены более одной ошибки или более двух- трех недочетов в выкладках, но учащийся владеет обязательными умениями по проверяемой теме

КМ-3. Случайные величины и их числовые характеристики

Формы реализации: Письменная работа

Тип контрольного мероприятия: Контрольная работа

Вес контрольного мероприятия в БРС: 25

Процедура проведения контрольного мероприятия: Контрольную работу «Случайные величины и их числовые характеристики» студенты пишут на практическом занятии на 2 часа.

Краткое содержание задания:

вычисление числовых характеристик случайных величин

Контрольные вопросы/задания:

| | |
|---|---|
| <p>Знать: -основные теоремы теории вероятностей</p> | <p>1. Случайная величина X имеет функцию распределения</p> $F(x) = \begin{cases} 0, & \text{при } x \leq 0; \\ \frac{x}{16}, & \text{при } 0 < x \leq 4; \\ 1, & \text{при } x > 4 \end{cases}$ <p>Найдите математическое ожидание этой случайной величины и вероятности: $P(1 < X < 2)$, $P(X < 3)$, $P(2 < X)$.</p> <p>2. Монета подброшена 4 раза. Напишите закон распределения случайной величины, которая равна числу выпавших гербов. Найдите математическое ожидание этой случайной величины.</p> |
|---|---|

Описание шкалы оценивания:

Оценка: 5

Нижний порог выполнения задания в процентах: 95

Описание характеристики выполнения знания: контрольная работа считается выполненной на оценку «Отлично», если работа выполнена полностью; в логических рассуждениях и обоснованиях нет пробелов и ошибок; в решении нет математических ошибок (возможна одна неточность, описка, не являющаяся следствием незнания или непонимания учебного материала)

Оценка: 4

Нижний порог выполнения задания в процентах: 80

Описание характеристики выполнения знания: контрольная работа считается выполненной на оценку «Хорошо», если работа выполнена полностью, но обоснования шагов решения недостаточны; допущена одна ошибка или два-три недочета в выкладках

Оценка: 3

Нижний порог выполнения задания в процентах: 60

Описание характеристики выполнения знания: контрольная работа считается выполненной на оценку «Удовлетворительно», если допущены более одной ошибки или более двух-трех недочетов в выкладках, но учащийся владеет обязательными умениями по проверяемой теме

КМ-4. Математическая статистика

Формы реализации: Письменная работа

Тип контрольного мероприятия: Расчетно-графическая работа

Вес контрольного мероприятия в БРС: 25

Процедура проведения контрольного мероприятия: Защита ТР проводится на занятии в виде письменной работы на 2 часа

Краткое содержание задания:

Контрольная точка направлена на отработку навыков первичной статистической обработки данных

Контрольные вопросы/задания:

| | |
|---|--|
| <p>Знать: определение случайной величины и ее числовые характеристики</p> | <p>1. Проверка гипотезы согласия по критерию хи-квадрат 2. Точечное оценивание параметров генеральной</p> |
|---|--|

| | |
|--|---|
| | совокупности 3.Интервальное оценивание параметров генеральной совокупности |
|--|---|

Описание шкалы оценивания:

Оценка: 5

Нижний порог выполнения задания в процентах: 95

Описание характеристики выполнения знания: работа считается выполненной на оценку «Отлично», если работа выполнена полностью; в логических рассуждениях и обоснованиях нет пробелов и ошибок; в решении нет математических ошибок (возможна одна неточность, описка, не являющаяся следствием незнания или непонимания учебного материала)

Оценка: 4

Нижний порог выполнения задания в процентах: 80

Описание характеристики выполнения знания: работа считается выполненной на оценку «Хорошо», если работа выполнена полностью, но обоснования шагов решения недостаточны; допущена одна ошибка или два-три недочета в выкладках

Оценка: 3

Нижний порог выполнения задания в процентах: 60

Описание характеристики выполнения знания: работа считается выполненной на оценку «Удовлетворительно», если допущены более одной ошибки или более двух- трех недочетов в выкладках, но учащийся владеет обязательными умениями по проверяемой теме

СОДЕРЖАНИЕ ОЦЕНОЧНЫХ СРЕДСТВ ПРОМЕЖУТОЧНОЙ АТТЕСТАЦИИ

3 семестр

Форма промежуточной аттестации: Экзамен

Пример билета

1. Определение и свойства двойного интеграла. Геометрический смысл двойного интеграла.
2. Ротор векторного поля. Формула Стокса.
3. Решить уравнение $z^4+z^2+1=0$

Процедура проведения

Экзамен проводится в виде устного опроса с предварительной подготовкой студента по материалам выбранного экзаменационного билета в течение 60-70 мин. учебного времени

1. Перечень компетенций/индикаторов и контрольных вопросов проверки результатов освоения дисциплины

1. Компетенция/Индикатор: ИД-Зопк-1 Применяет математический аппарат теории кратных и поверхностных интегралов, векторного анализа, теории функций комплексного переменного, операционного исчисления

Вопросы, задания

- 1.Кратные (двойные и тройные) интегралы
- 2.Вычисление площадей, объемов
- 3.Двойной интеграл в полярных координатах
- 4.Тройной интеграл в цилиндрических и сферических координатах.
- 5.Площадь поверхности
- 6.Поток векторного поля через поверхность, его физический смысл.
- 7.Формула Остроградского–Гаусса. Дивергенция векторного поля, ее физический смысл.
- 8.Криволинейный интеграл второго рода. Свойства. Формула Грина.
- 9.Циркуляция. Формула Стокса. Ротор векторного поля и его физический смысл.
- 10.Потенциальное поле, условия потенциальности. Интеграл в потенциальном поле.
- 11.Понятие функции комплексного переменного
- 12.Основные функции комплексного переменного.
- 13.Аналитическая функция и ее свойства
- 14.Ряд Лорана

Материалы для проверки остаточных знаний

1.Вычислить интеграл $\int_3^4 dx \int_1^2 \frac{1}{(x+y)^2} dy$

Ответы:

- 1)16
- 2)-2
- 3)ln5
- 4)ln(25|24)
- 5)ln1

Верный ответ: 4

2.Вычислить интеграл $\int_0^2 dx \int_0^{\sqrt{2x-x^2}} dy \int_0^3 z\sqrt{x^2+y^2} dz$

Ответы:

- 1)8
- 2)-3
- 3)0
- 4)15

Верный ответ: 1

3.Вычислить площадь фигуры, ограниченной кривыми: $x=4$; $y=x$; $xy=4$

Ответы:

- 1)36
- 2) $6-4\ln 2$
- 3) $1+\ln 4$
- 4) $-1+2\ln 3$
- 5)-14

Верный ответ: 2

4.Найти поток векторного поля $\vec{a} = x\vec{i} + y\vec{j} + z\vec{k}$ через внешнюю сторону боковой поверхности цилиндра $x^2 + y^2 = 4$, ограниченную плоскостями $z=0$, $z=3$

Ответы:

- 1)0
- 2)2П
- 3)24П
- 4)-П
- 5)12П

Верный ответ: 3

5.Вычислить работу силового поля $\vec{F} = (x^2 + 2xy)\vec{i} + (x^2 + y^2)\vec{j}$ вдоль параболы $y = x^2$ от $M(0,0)$ до $N(1,1)$

Ответы:

- 1)2
- 2)0
- 3)-0,5
- 4)5/3
- 5)0,25

Верный ответ: 4

6.Найти ротор вектора $\vec{a} = (x^2 + y^2)\vec{i} + (y^2 + z^2)\vec{j} + (z^2 + x^2)\vec{k}$

Ответы:

- 1) $(-2z, -2x, -2y)$
- 2) (x, y, z)
- 3) $(2z, y, 2x)$
- 4) $(-x, 2z, y)$
- 5) $(0, 0, 0)$

Верный ответ: 1

7.Найти $\arg(2-3i)$

Ответы:

- 1) $-\arctg(3/2)$
- 2) $\arctg 3$
- 3) $\arctg(2/3)$
- 4)0

Верный ответ: 1

8.Найти все корни уравнения $z^3=8$

Ответы:

- 1) $2, -1 + i\sqrt{3}, -1 - i\sqrt{3}$
- 2) $2, 2i, -i$

3)2

4)2i

Верный ответ: 1

9.Найти $|(1+5i)/(2-6i)|$

Ответы:

1)0,1

2)2/6

3) $\frac{\sqrt{65}}{10}$

4) $\sqrt{3}$

Верный ответ: 3

10.Представить число $z = \frac{1+5i}{2-6i}$ в алгебраической форме

Ответы:

1)-0,7+0,4i

2)0,4-0,7i

3)0

4)2+3i

Верный ответ: 1

II. Описание шкалы оценивания

Оценка: 5

Нижний порог выполнения задания в процентах: 95

Описание характеристики выполнения знания: Работа выполнена в рамках "продвинутого" уровня. Ответы даны верно, четко сформулированные особенности практических решений

Оценка: 4

Нижний порог выполнения задания в процентах: 80

Описание характеристики выполнения знания: Работа выполнена в рамках "базового" уровня. Большинство ответов даны верно. В части материала есть незначительные недостатки

Оценка: 3

Нижний порог выполнения задания в процентах: 60

Описание характеристики выполнения знания: Работа выполнена в рамках "порогового" уровня. Основная часть задания выполнена верно. на вопросы углубленного уровня

III. Правила выставления итоговой оценки по курсу

итоговая оценка за освоение дисциплины определяется в соответствии с Положением о балльно-рейтинговой системе для студентов НИУ «МЭИ»

4 семестр

Форма промежуточной аттестации: Экзамен

Пример билета

1. Числовые характеристики случайной величины.
2. Определение функции-оригинала.
3. Операционным методом решить задачу Коши $x + 25x = 50, \text{ \ \ } x(0) = 2, \text{ \ \ } x(0) = 1$

4. Контролер проверяет изделия на стандартность. Вероятность того, что изделие стандартно, равна 0,9. Найти вероятность того, что из двух проверенных изделий только одно стандартное.

Процедура проведения

Экзамен проводится в виде устного опроса с предварительной подготовкой студента по материалам выбранного экзаменационного билета в течение 60-70 мин. учебного времени

1. Перечень компетенций/индикаторов и контрольных вопросов проверки результатов освоения дисциплины

1. Компетенция/Индикатор: ИД-3_{ОПК-1} Применяет математический аппарат теории кратных и поверхностных интегралов, векторного анализа, теории функций комплексного переменного, операционного исчисления

Материалы для проверки остаточных знаний

1. Является ли функция функцией-оригиналом $f(x) = \frac{1}{(t-1)^2}$

Ответы:

- 1) Да
- 2) Нет

Верный ответ: 2

2. Решить задачу Коши операционным методом $x'' + x = 1$, $x(0) = -1$, $x'(0) = 0$

Ответы:

- 1) $x(t) = t - \sin t$
- 2) $x(t) = 2t - \cos t$
- 3) $x(t) = \cos t + t$
- 4) $x(t) = \sin t - \cos t$

Верный ответ: 1

2. Компетенция/Индикатор: ИД-4_{ОПК-1} Применяет математический аппарат теории вероятностей и математической статистики

Вопросы, задания

1. Преобразование Лапласа, его свойства
2. Применение преобразования Лапласа к решению линейных дифференциальных уравнений и систем
3. Вероятностная модель, алгебра событий, аксиомы вероятности
4. Классическая вероятность
5. Теорема сложения вероятностей
6. условная вероятность, независимость событий.
7. Схема Бернулли
8. Формула полной вероятности и Байеса
9. Случайные величины, функция распределения
10. Дискретные и непрерывные случайные величины
11. Предмет математической статистики, выборки
12. Выборочные характеристики (математическое ожидание, дисперсия и т.п.)
13. Методы точечных оценок неизвестных параметров распределения
14. Метод доверительных интервалов
15. Проверка статистических гипотез

Материалы для проверки остаточных знаний

1. Найти вероятность того, что среди 6 карт, взятых наудачу из колоды в 36 карт, будет ровно 2 туза

Ответы:

$$1. \frac{C_{44}^{44} C_{3232}^{3232}}{C_{3636}^{3636}} \quad 2. \frac{C_{44}^{44} C_{3232}^{3232}}{C_{66}^{66}} \quad 3. \frac{C_{44}^{44} C_{3232}^{3232}}{C_{66}^{66}}$$

Верный ответ: 1

2. Вероятность попадания в цель при одном выстреле для первого стрелка равна 0,7, а для второго равна 0,8. Оба стрелка дали залп по цели. Какова вероятность того, что попал только один?

Ответы:

1) 1,38 2) 0,38 3) 0,098 4) 0,68

Верный ответ: 2

3. Из ящика, содержащего 4 белых и 3 черных шара, вынули наугад 2 шара. Какова теперь вероятность вынуть белый шар из этого ящика?

Ответы:

1) $\frac{4}{7} \approx 0,5714$ 2) $\frac{7}{4} \approx 1,7500$ 3) $\frac{1}{7} \approx 0,1429$

Верный ответ: 1

4. Вероятность того, что лотерейный билет окажется выигрышным равна 1/3. Какова вероятность того, что из пяти купленных билетов два окажутся выигрышными?

Ответы:

1) $\frac{243}{50} \approx 4,8600$ 2) $\frac{80}{243} \approx 0,3292$ 3) $\frac{50}{134} \approx 0,3731$

Верный ответ: 2

5. Задан ряд распределения дискретной случайной величины X:

| | | | | |
|------|-----|-----|---|-----|
| X | 1 | 3 | 5 | 7 |
| P(X) | 0,1 | 0,3 | C | 0,2 |

Определить величину постоянной C. Найти M(X), D(X), P(X<4).

Ответы:

1) C=0,3 M(X)=1,4 D(X)=0,48 P(X<4)=0,2
2) C=1,3 M(X)=5,4 D(X)=6,81 P(X<4)=1,2
3) C=0,4 M(X)=4,4 D(X)=3,24 P(X<4)=0,4
4) C=0,8 M(X)=0,4 D(X)=-1,8 P(X<4)=1,01

Верный ответ: 3

6. Случайная величина X имеет функцию плотности вероятности $f(x) = [Cx, x \in [0,2]; 0, x \notin [0,2]$

Определить величину постоянной C. Найти M(X), D(X), P(X>1), P(1/2<X<3/2).

Ответы:

1) C=0,3 M(X)=1/4 D(X)=1/48 P(X>1)=3/2 P(1/2<X<3/2)=1/5
2) C=1,3 M(X)=5/4 D(X)=6/8 P(X>1)=1/2 P(1/2<X<3/2)=3/2
3) C=0,5 M(X)=3/4 D(X)=2/9 P(X>1)=3/4 P(1/2<X<3/2)=1/2
4) C=0,8 M(X)=7/4 D(X)=-1/8 P(X>1)=1/7 P(1/2<X<3/2)=5/3

Верный ответ: 3

II. Описание шкалы оценивания

Оценка: 5

Нижний порог выполнения задания в процентах: 95

Описание характеристики выполнения знания: Работа выполнена в рамках "продвинутого" уровня. Ответы даны верно, четко сформулированные особенности практических решений

Оценка: 4

Нижний порог выполнения задания в процентах: 80

Описание характеристики выполнения знания: Работа выполнена в рамках "базового" уровня. Большинство ответов даны верно. В части материала есть незначительные недостатки

Оценка: 3

Нижний порог выполнения задания в процентах: 60

Описание характеристики выполнения знания: Работа выполнена в рамках "порогового" уровня. Основная часть задания выполнена верно. на вопросы углубленного уровня

III. Правила выставления итоговой оценки по курсу

итоговая оценка за освоение дисциплины определяется в соответствии с Положением о балльно-рейтинговой системе для студентов НИУ «МЭИ»